

Im Zahlenbereich bis max. 1000.

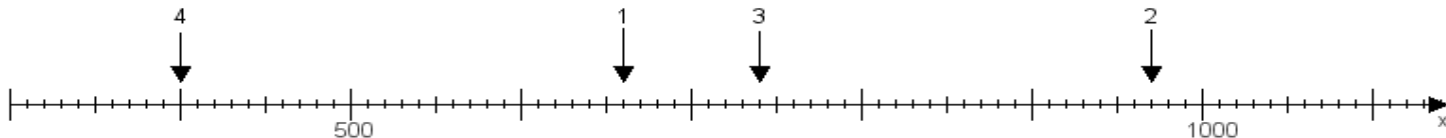
Name:

Klasse:

Datum:

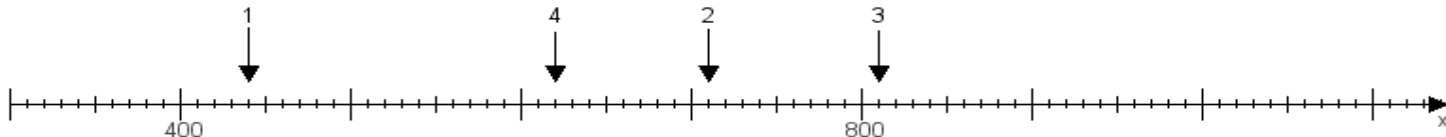
Aufgabe 1:

Ermittle die Werte von den Punkten 1 bis 4.



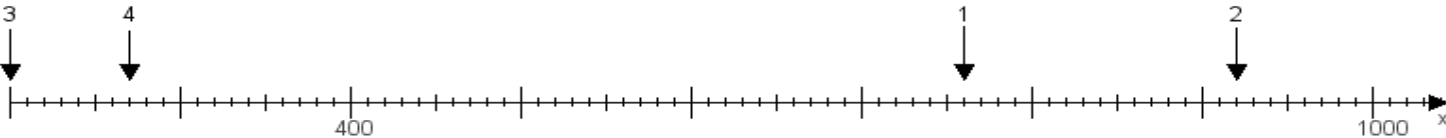
Aufgabe 2:

Ermittle die Werte von den Punkten 1 bis 4.



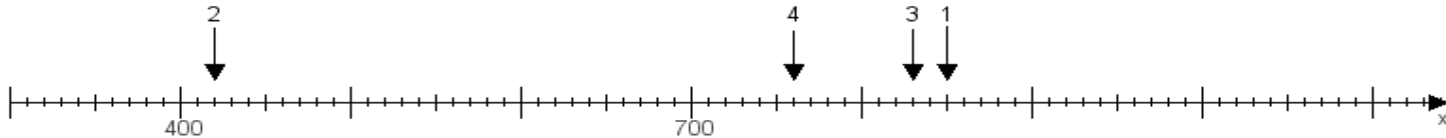
Aufgabe 3:

Ermittle die Werte von den Punkten 1 bis 4.



Aufgabe 4:

Ermittle die Werte von den Punkten 1 bis 4.



www.das-bastelteam.de -> Zahlenstrahl mit 4 Punkten. Blatt Nr.:264
Lösungen:

Aufgabe 1: Punkt 1 = 660, Punkt 2 = 970, Punkt 3 = 740, Punkt 4 = 400,

Aufgabe 2: Punkt 1 = 440, Punkt 2 = 710, Punkt 3 = 810, Punkt 4 = 620,

Aufgabe 3: Punkt 1 = 760, Punkt 2 = 920, Punkt 3 = 200, Punkt 4 = 270,

Aufgabe 4: Punkt 1 = 850, Punkt 2 = 420, Punkt 3 = 830, Punkt 4 = 760,