

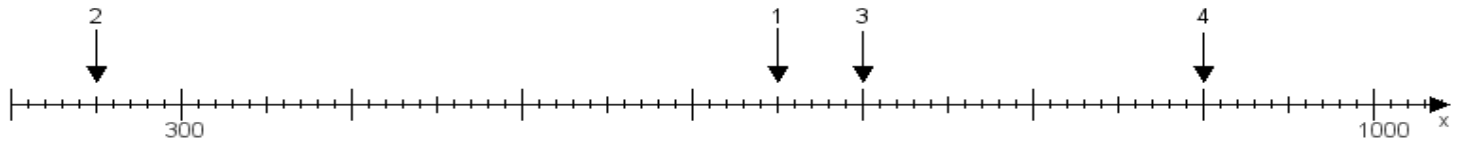
Name:

Klasse:

Datum:

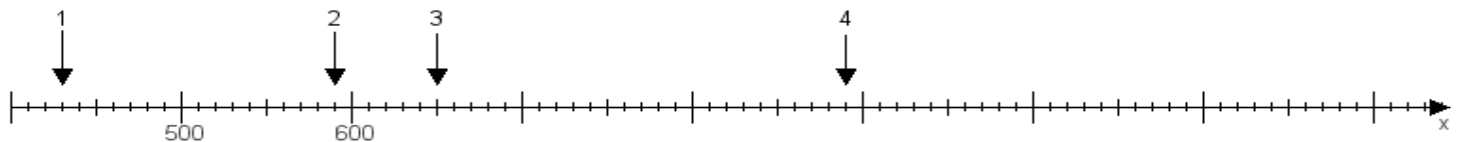
**Aufgabe 1:**

Ermittle die Werte von den Punkten 1 bis 4.



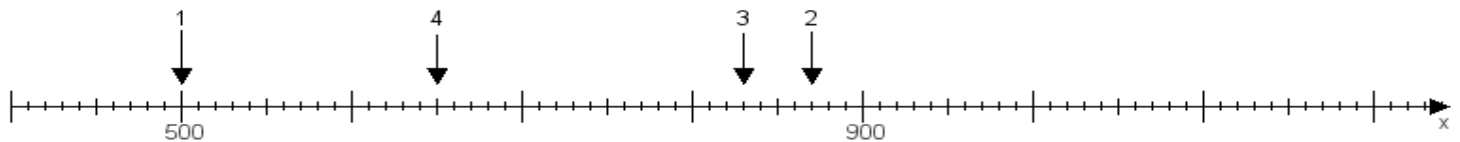
**Aufgabe 2:**

Ermittle die Werte von den Punkten 1 bis 4.



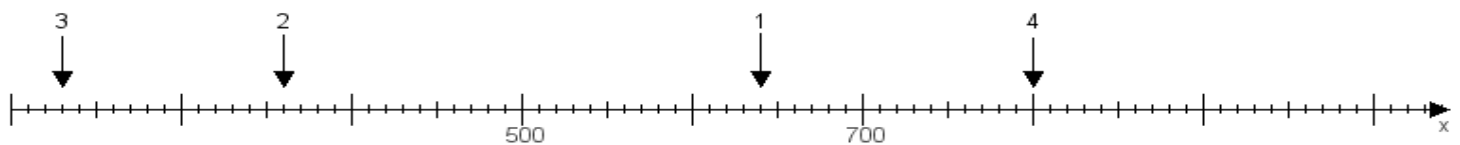
**Aufgabe 3:**

Ermittle die Werte von den Punkten 1 bis 4.



**Aufgabe 4:**

Ermittle die Werte von den Punkten 1 bis 4.



[www.das-bastelteam.de](http://www.das-bastelteam.de) -> Zahlenstrahl mit 4 Punkten. Blatt Nr.:263  
Lösungen:

Aufgabe 1: Punkt 1 = 650, Punkt 2 = 250, Punkt 3 = 700, Punkt 4 = 900,

Aufgabe 2: Punkt 1 = 430, Punkt 2 = 590, Punkt 3 = 650, Punkt 4 = 890,

Aufgabe 3: Punkt 1 = 500, Punkt 2 = 870, Punkt 3 = 830, Punkt 4 = 650,

Aufgabe 4: Punkt 1 = 640, Punkt 2 = 360, Punkt 3 = 230, Punkt 4 = 800,