

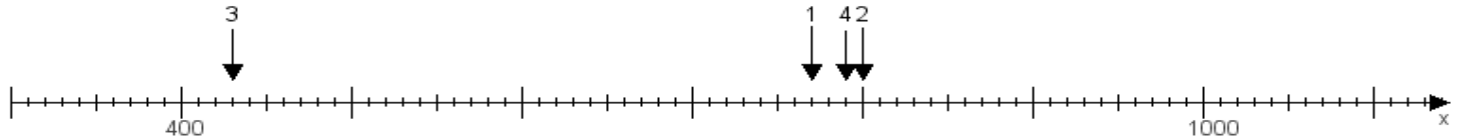
Name:

Klasse:

Datum:

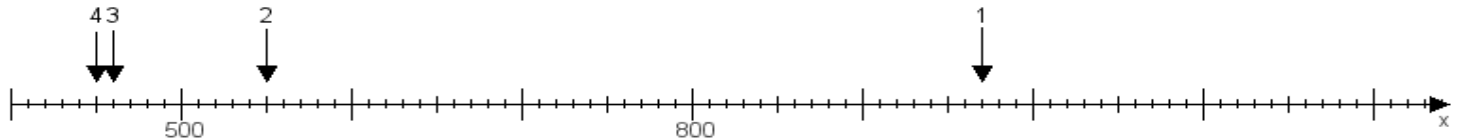
Aufgabe 1:

Ermittle die Werte von den Punkten 1 bis 4.



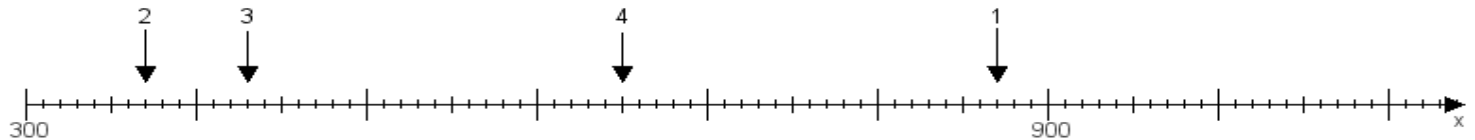
Aufgabe 2:

Ermittle die Werte von den Punkten 1 bis 4.



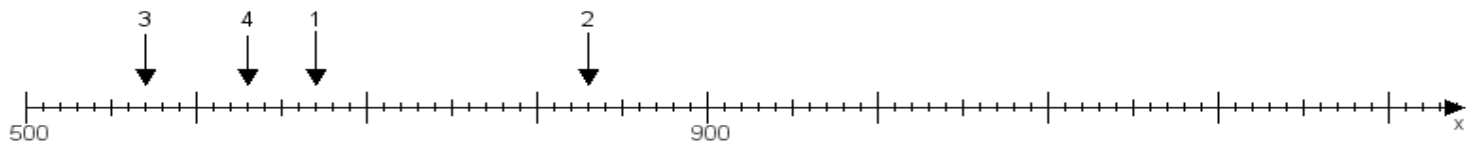
Aufgabe 3:

Ermittle die Werte von den Punkten 1 bis 4.



Aufgabe 4:

Ermittle die Werte von den Punkten 1 bis 4.



www.das-bastelteam.de -> Zahlenstrahl mit 4 Punkten. Blatt Nr.:262
Lösungen:

Aufgabe 1: Punkt 1 = 770, Punkt 2 = 800, Punkt 3 = 430, Punkt 4 = 790,

Aufgabe 2: Punkt 1 = 970, Punkt 2 = 550, Punkt 3 = 460, Punkt 4 = 450,

Aufgabe 3: Punkt 1 = 870, Punkt 2 = 370, Punkt 3 = 430, Punkt 4 = 650,

Aufgabe 4: Punkt 1 = 670, Punkt 2 = 830, Punkt 3 = 570, Punkt 4 = 630,