

Im Zahlenbereich bis max. 1000.

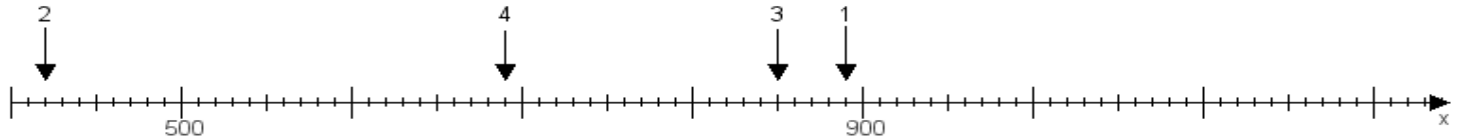
Name:

Klasse:

Datum:

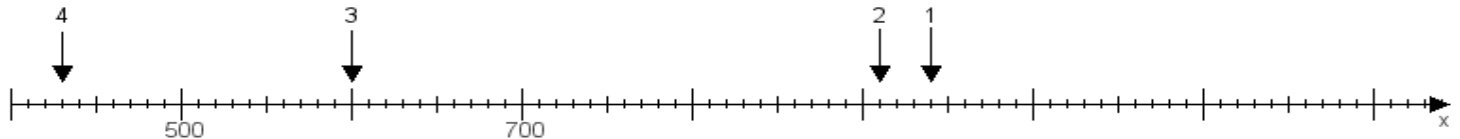
Aufgabe 1:

Ermittle die Werte von den Punkten 1 bis 4.



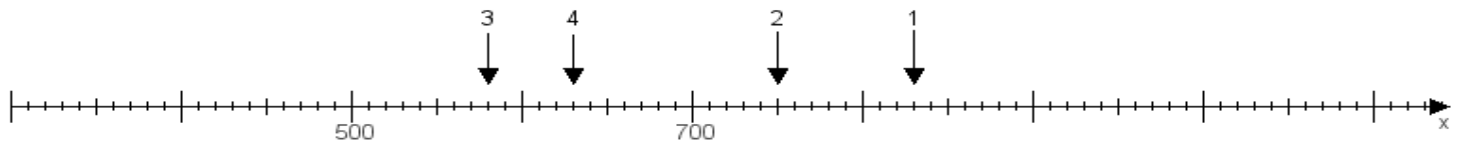
Aufgabe 2:

Ermittle die Werte von den Punkten 1 bis 4.



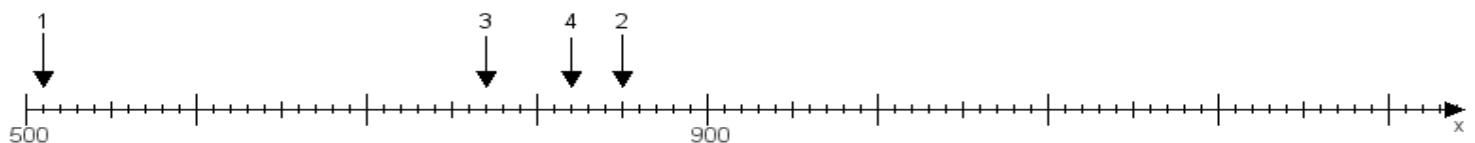
Aufgabe 3:

Ermittle die Werte von den Punkten 1 bis 4.



Aufgabe 4:

Ermittle die Werte von den Punkten 1 bis 4.



www.das-bastelteam.de -> Zahlenstrahl mit 4 Punkten. Blatt Nr.:251
Lösungen:

Aufgabe 1: Punkt 1 = 890, Punkt 2 = 420, Punkt 3 = 850, Punkt 4 = 690,

Aufgabe 2: Punkt 1 = 940, Punkt 2 = 910, Punkt 3 = 600, Punkt 4 = 430,

Aufgabe 3: Punkt 1 = 830, Punkt 2 = 750, Punkt 3 = 580, Punkt 4 = 630,

Aufgabe 4: Punkt 1 = 510, Punkt 2 = 850, Punkt 3 = 770, Punkt 4 = 820,