

Im Zahlenbereich bis max. 1000.

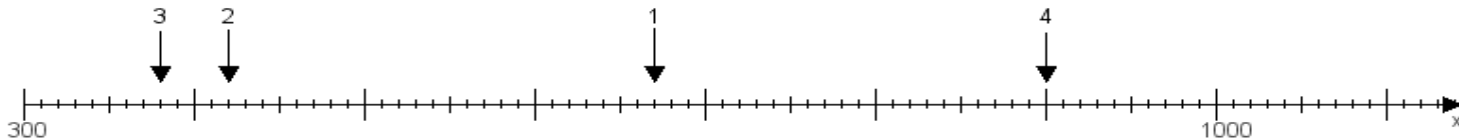
Name:

Klasse:

Datum:

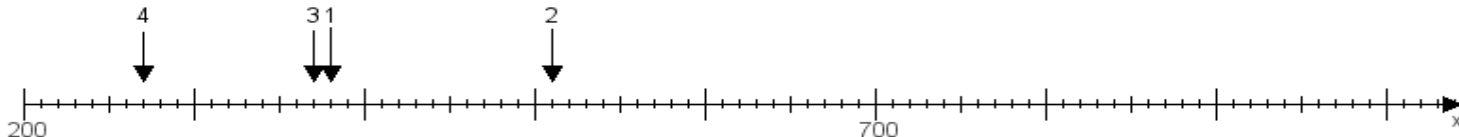
Aufgabe 1:

Ermittle die Werte von den Punkten 1 bis 4.



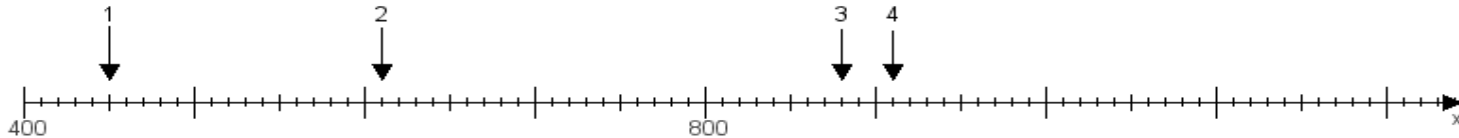
Aufgabe 2:

Ermittle die Werte von den Punkten 1 bis 4.



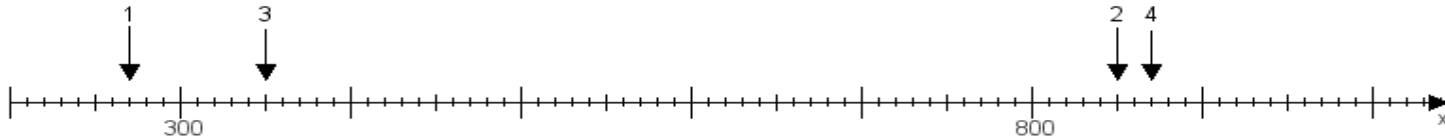
Aufgabe 3:

Ermittle die Werte von den Punkten 1 bis 4.



Aufgabe 4:

Ermittle die Werte von den Punkten 1 bis 4.



www.das-bastelteam.de -> Zahlenstrahl mit 4 Punkten. Blatt Nr.:249
Lösungen:

Aufgabe 1: Punkt 1 = 670, Punkt 2 = 420, Punkt 3 = 380, Punkt 4 = 900,

Aufgabe 2: Punkt 1 = 380, Punkt 2 = 510, Punkt 3 = 370, Punkt 4 = 270,

Aufgabe 3: Punkt 1 = 450, Punkt 2 = 610, Punkt 3 = 880, Punkt 4 = 910,

Aufgabe 4: Punkt 1 = 270, Punkt 2 = 850, Punkt 3 = 350, Punkt 4 = 870,