

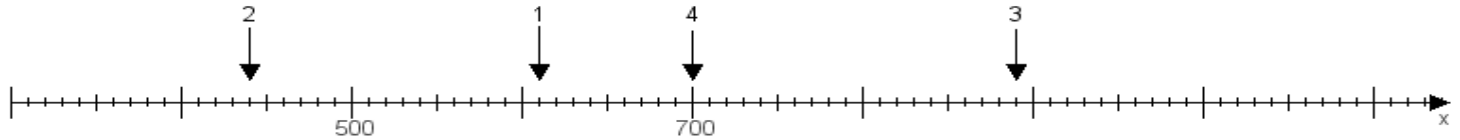
Name:

Klasse:

Datum:

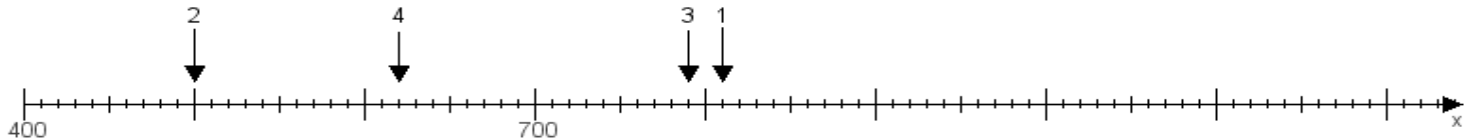
Aufgabe 1:

Ermittle die Werte von den Punkten 1 bis 4.



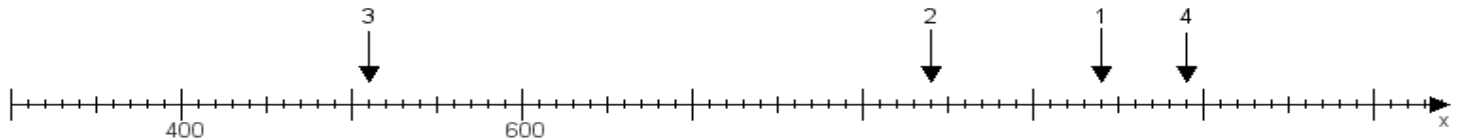
Aufgabe 2:

Ermittle die Werte von den Punkten 1 bis 4.



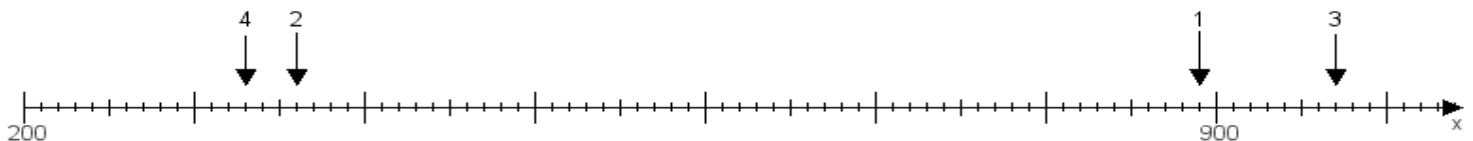
Aufgabe 3:

Ermittle die Werte von den Punkten 1 bis 4.



Aufgabe 4:

Ermittle die Werte von den Punkten 1 bis 4.



www.das-bastelteam.de -> Zahlenstrahl mit 4 Punkten. Blatt Nr.:247
Lösungen:

Aufgabe 1: Punkt 1 = 610, Punkt 2 = 440, Punkt 3 = 890, Punkt 4 = 700,

Aufgabe 2: Punkt 1 = 810, Punkt 2 = 500, Punkt 3 = 790, Punkt 4 = 620,

Aufgabe 3: Punkt 1 = 940, Punkt 2 = 840, Punkt 3 = 510, Punkt 4 = 990,

Aufgabe 4: Punkt 1 = 890, Punkt 2 = 360, Punkt 3 = 970, Punkt 4 = 330,