

Im Zahlenbereich bis max. 1000.

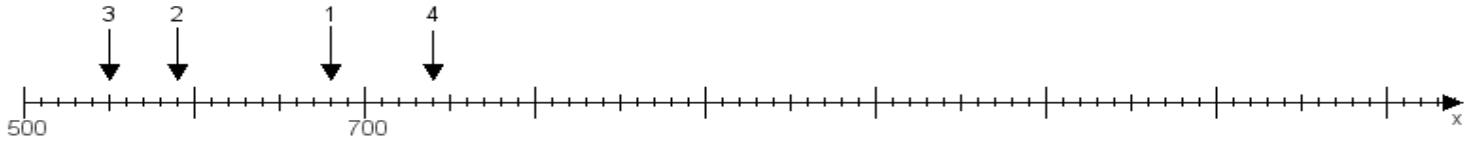
Name:

Klasse:

Datum:

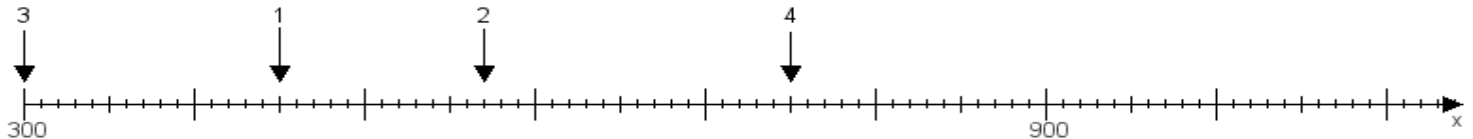
Aufgabe 1:

Ermittle die Werte von den Punkten 1 bis 4.



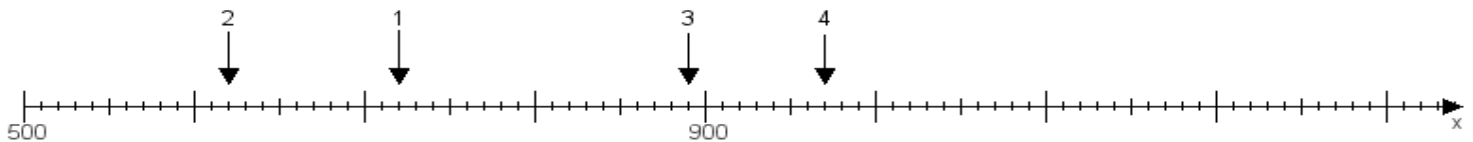
Aufgabe 2:

Ermittle die Werte von den Punkten 1 bis 4.



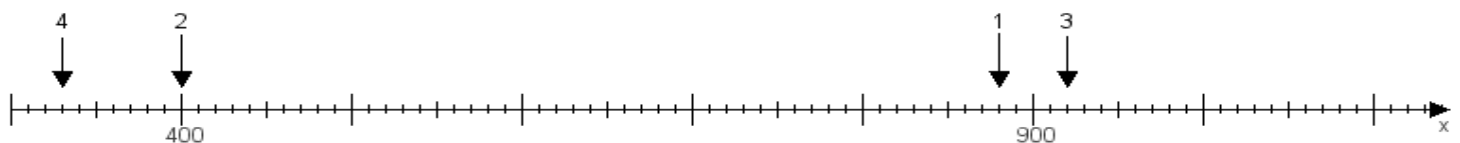
Aufgabe 3:

Ermittle die Werte von den Punkten 1 bis 4.



Aufgabe 4:

Ermittle die Werte von den Punkten 1 bis 4.



www.das-bastelteam.de -> Zahlenstrahl mit 4 Punkten. Blatt Nr.:245
Lösungen:

Aufgabe 1: Punkt 1 = 680, Punkt 2 = 590, Punkt 3 = 550, Punkt 4 = 740,

Aufgabe 2: Punkt 1 = 450, Punkt 2 = 570, Punkt 3 = 300, Punkt 4 = 750,

Aufgabe 3: Punkt 1 = 720, Punkt 2 = 620, Punkt 3 = 890, Punkt 4 = 970,

Aufgabe 4: Punkt 1 = 880, Punkt 2 = 400, Punkt 3 = 920, Punkt 4 = 330,