

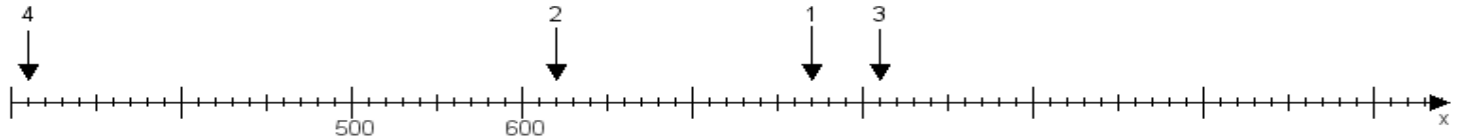
Name:

Klasse:

Datum:

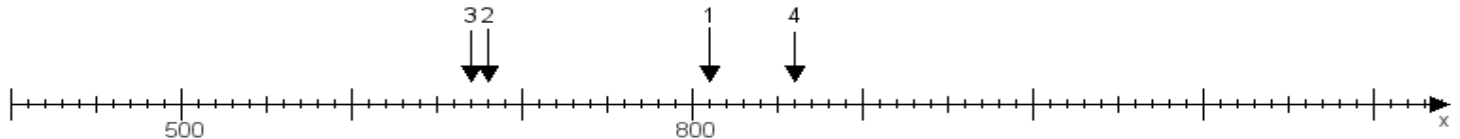
Aufgabe 1:

Ermittle die Werte von den Punkten 1 bis 4.



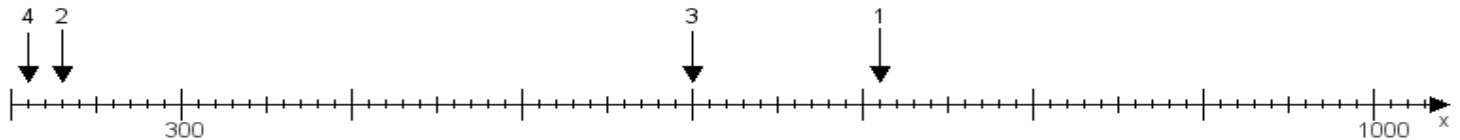
Aufgabe 2:

Ermittle die Werte von den Punkten 1 bis 4.



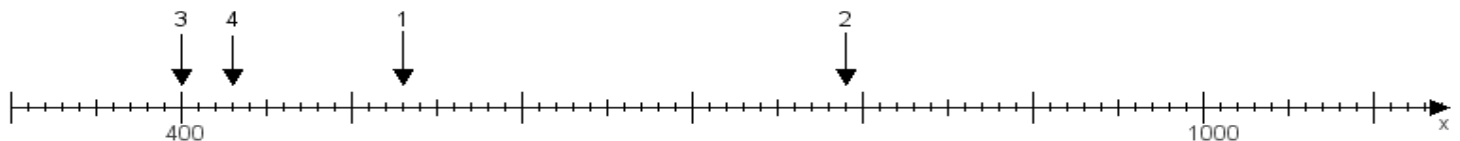
Aufgabe 3:

Ermittle die Werte von den Punkten 1 bis 4.



Aufgabe 4:

Ermittle die Werte von den Punkten 1 bis 4.



www.das-bastelteam.de -> Zahlenstrahl mit 4 Punkten. Blatt Nr.:244
Lösungen:

Aufgabe 1: Punkt 1 = 770, Punkt 2 = 620, Punkt 3 = 810, Punkt 4 = 310,

Aufgabe 2: Punkt 1 = 810, Punkt 2 = 680, Punkt 3 = 670, Punkt 4 = 860,

Aufgabe 3: Punkt 1 = 710, Punkt 2 = 230, Punkt 3 = 600, Punkt 4 = 210,

Aufgabe 4: Punkt 1 = 530, Punkt 2 = 790, Punkt 3 = 400, Punkt 4 = 430,