

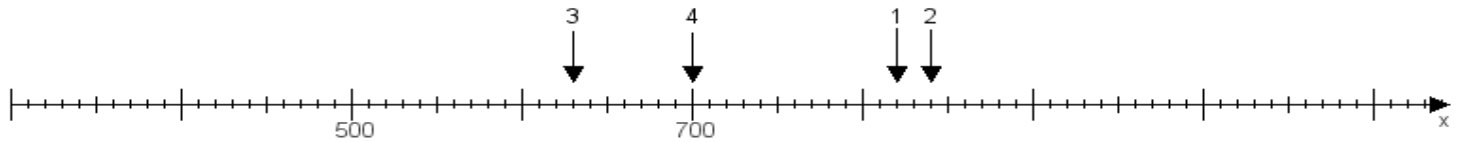
Name:

Klasse:

Datum:

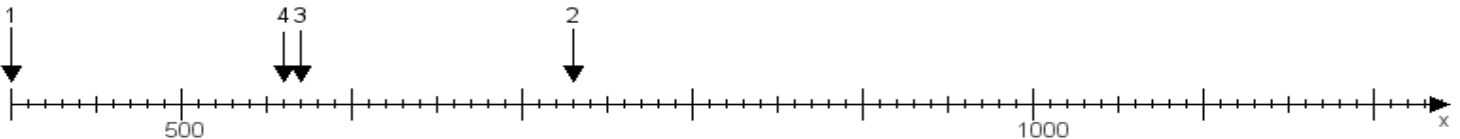
**Aufgabe 1:**

Ermittle die Werte von den Punkten 1 bis 4.



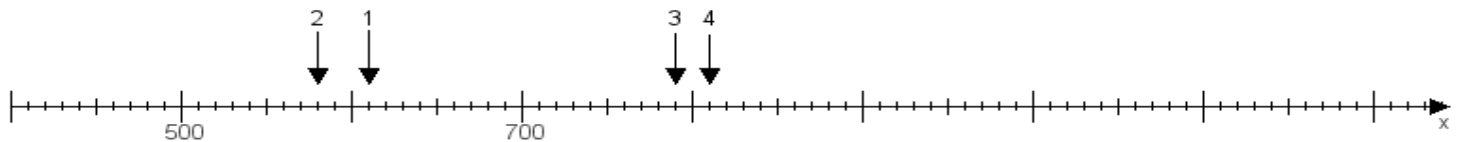
**Aufgabe 2:**

Ermittle die Werte von den Punkten 1 bis 4.



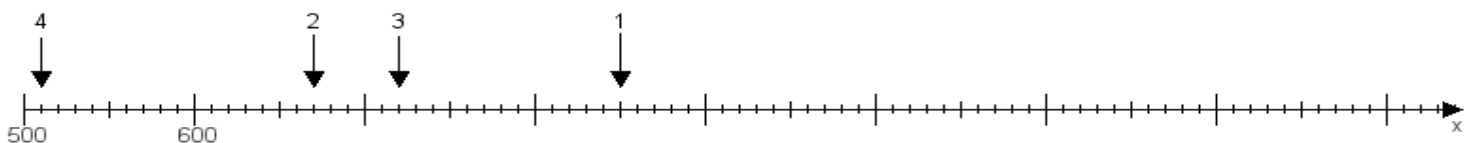
**Aufgabe 3:**

Ermittle die Werte von den Punkten 1 bis 4.



**Aufgabe 4:**

Ermittle die Werte von den Punkten 1 bis 4.



[www.das-bastelteam.de](http://www.das-bastelteam.de) -> Zahlenstrahl mit 4 Punkten. Blatt Nr.:243  
Lösungen:

Aufgabe 1: Punkt 1 = 820, Punkt 2 = 840, Punkt 3 = 630, Punkt 4 = 700,

Aufgabe 2: Punkt 1 = 400, Punkt 2 = 730, Punkt 3 = 570, Punkt 4 = 560,

Aufgabe 3: Punkt 1 = 610, Punkt 2 = 580, Punkt 3 = 790, Punkt 4 = 810,

Aufgabe 4: Punkt 1 = 850, Punkt 2 = 670, Punkt 3 = 720, Punkt 4 = 510,