

Im Zahlenbereich bis max. 1000.

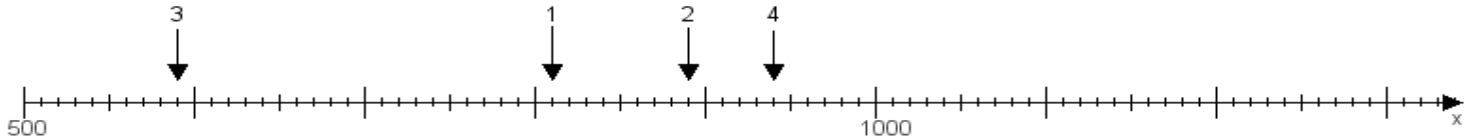
Name:

Klasse:

Datum:

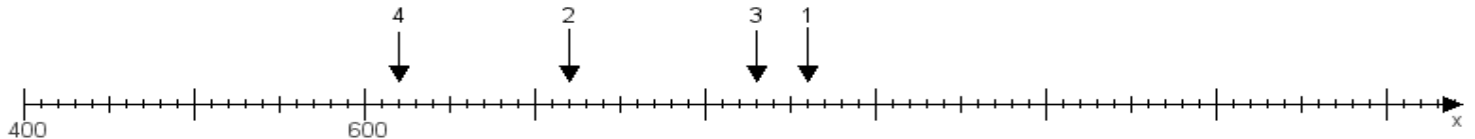
**Aufgabe 1:**

Ermittle die Werte von den Punkten 1 bis 4.



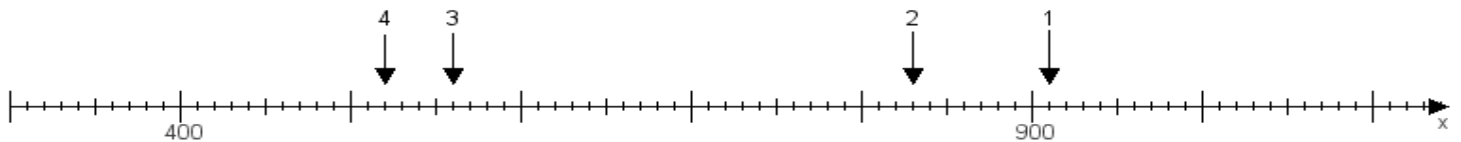
**Aufgabe 2:**

Ermittle die Werte von den Punkten 1 bis 4.



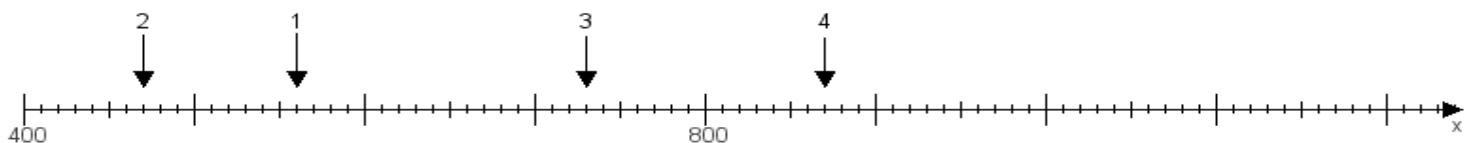
**Aufgabe 3:**

Ermittle die Werte von den Punkten 1 bis 4.



**Aufgabe 4:**

Ermittle die Werte von den Punkten 1 bis 4.



[www.das-bastelteam.de](http://www.das-bastelteam.de) -> Zahlenstrahl mit 4 Punkten. Blatt Nr.:242  
Lösungen:

Aufgabe 1: Punkt 1 = 810, Punkt 2 = 890, Punkt 3 = 590, Punkt 4 = 940,

Aufgabe 2: Punkt 1 = 860, Punkt 2 = 720, Punkt 3 = 830, Punkt 4 = 620,

Aufgabe 3: Punkt 1 = 910, Punkt 2 = 830, Punkt 3 = 560, Punkt 4 = 520,

Aufgabe 4: Punkt 1 = 560, Punkt 2 = 470, Punkt 3 = 730, Punkt 4 = 870,

[www.bin-dann-weg.de](http://www.bin-dann-weg.de) -> Ferienwohnungen und Ferienhäuser.

[www.kleinanzeigen-und-annoncen.de](http://www.kleinanzeigen-und-annoncen.de) -> Kostenlose Kleinanzeigen deutschlandweit.