

Im Zahlenbereich bis max. 1000.

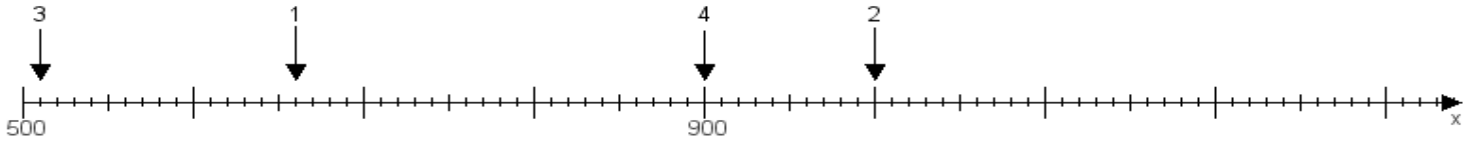
Name:

Klasse:

Datum:

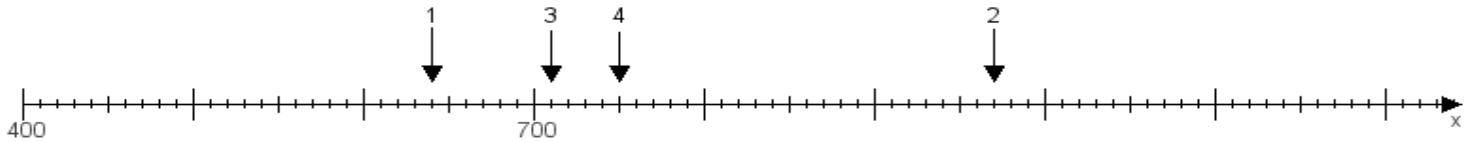
**Aufgabe 1:**

Ermittle die Werte von den Punkten 1 bis 4.



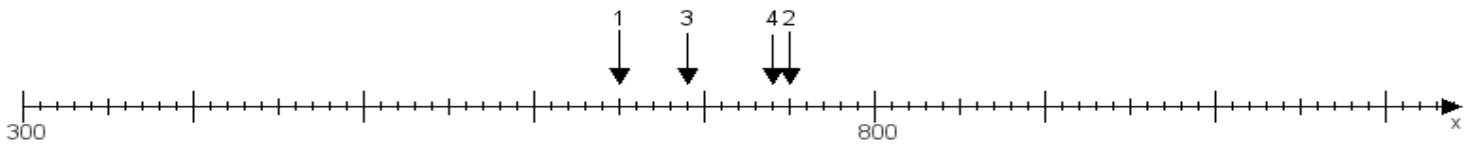
**Aufgabe 2:**

Ermittle die Werte von den Punkten 1 bis 4.



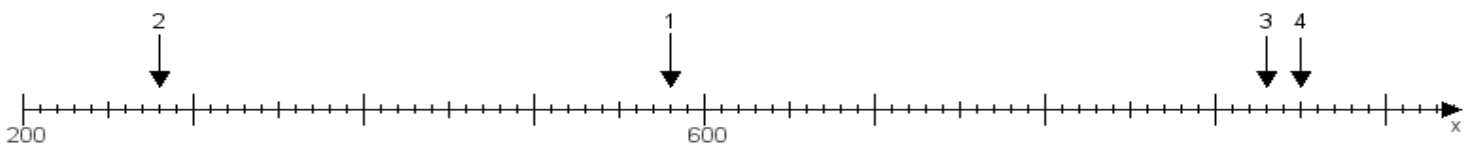
**Aufgabe 3:**

Ermittle die Werte von den Punkten 1 bis 4.



**Aufgabe 4:**

Ermittle die Werte von den Punkten 1 bis 4.



[www.das-bastelteam.de](http://www.das-bastelteam.de) -> Zahlenstrahl mit 4 Punkten. Blatt Nr.:241  
Lösungen:

Aufgabe 1: Punkt 1 = 660, Punkt 2 = 1000, Punkt 3 = 510, Punkt 4 = 900,

Aufgabe 2: Punkt 1 = 640, Punkt 2 = 970, Punkt 3 = 710, Punkt 4 = 750,

Aufgabe 3: Punkt 1 = 650, Punkt 2 = 750, Punkt 3 = 690, Punkt 4 = 740,

Aufgabe 4: Punkt 1 = 580, Punkt 2 = 280, Punkt 3 = 930, Punkt 4 = 950,