

Im Zahlenbereich bis max. 1000.

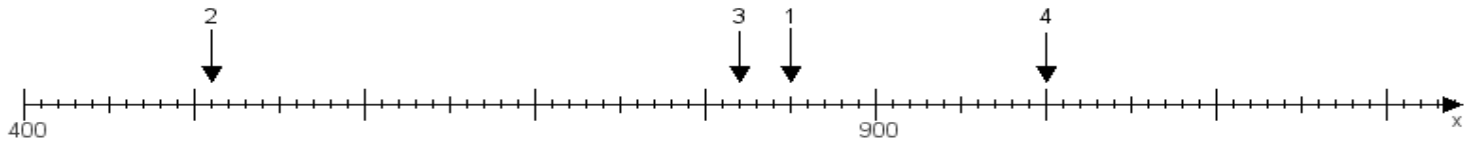
Name:

Klasse:

Datum:

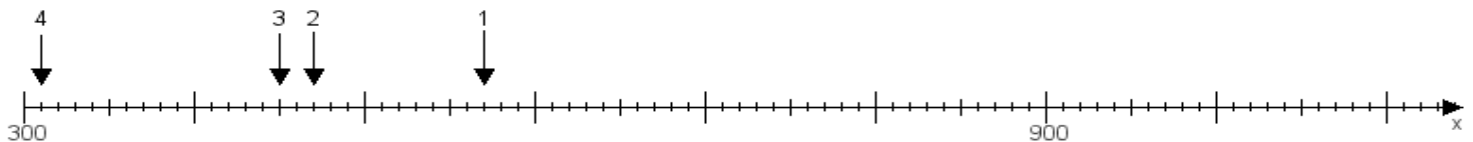
Aufgabe 1:

Ermittle die Werte von den Punkten 1 bis 4.



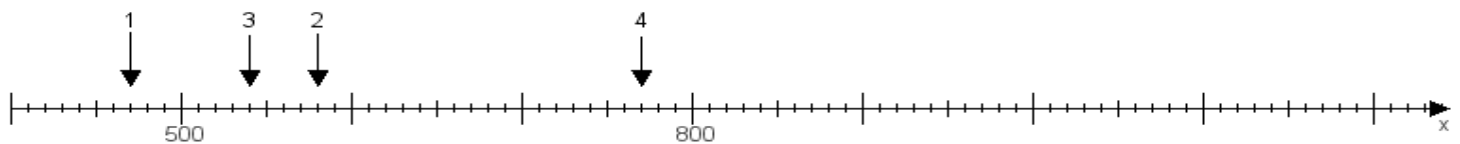
Aufgabe 2:

Ermittle die Werte von den Punkten 1 bis 4.



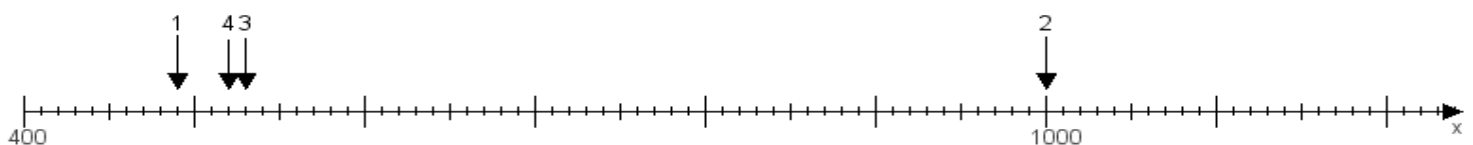
Aufgabe 3:

Ermittle die Werte von den Punkten 1 bis 4.



Aufgabe 4:

Ermittle die Werte von den Punkten 1 bis 4.



www.das-bastelteam.de -> Zahlenstrahl mit 4 Punkten. Blatt Nr.:23
Lösungen:

Aufgabe 1: Punkt 1 = 850, Punkt 2 = 510, Punkt 3 = 820, Punkt 4 = 1000,

Aufgabe 2: Punkt 1 = 570, Punkt 2 = 470, Punkt 3 = 450, Punkt 4 = 310,

Aufgabe 3: Punkt 1 = 470, Punkt 2 = 580, Punkt 3 = 540, Punkt 4 = 770,

Aufgabe 4: Punkt 1 = 490, Punkt 2 = 1000, Punkt 3 = 530, Punkt 4 = 520,