

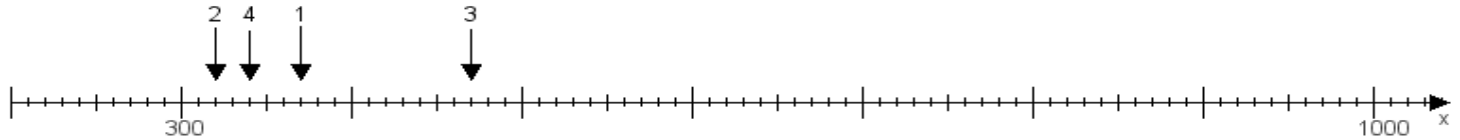
Name:

Klasse:

Datum:

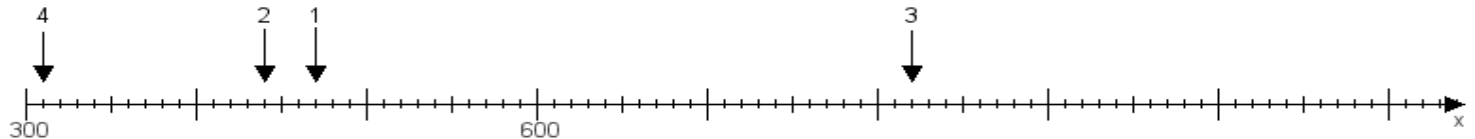
**Aufgabe 1:**

Ermittle die Werte von den Punkten 1 bis 4.



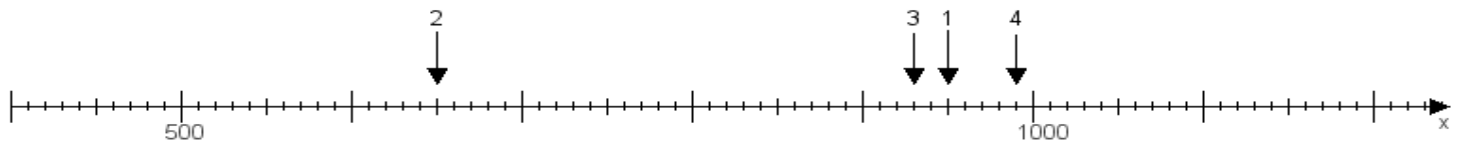
**Aufgabe 2:**

Ermittle die Werte von den Punkten 1 bis 4.



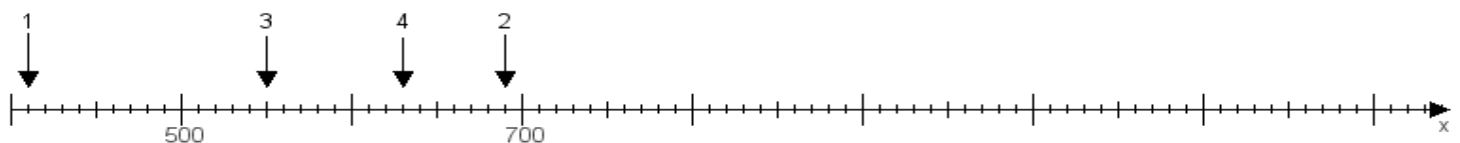
**Aufgabe 3:**

Ermittle die Werte von den Punkten 1 bis 4.



**Aufgabe 4:**

Ermittle die Werte von den Punkten 1 bis 4.



[www.das-bastelteam.de](http://www.das-bastelteam.de) -> Zahlenstrahl mit 4 Punkten. Blatt Nr.:239  
Lösungen:

Aufgabe 1: Punkt 1 = 370, Punkt 2 = 320, Punkt 3 = 470, Punkt 4 = 340,

Aufgabe 2: Punkt 1 = 470, Punkt 2 = 440, Punkt 3 = 820, Punkt 4 = 310,

Aufgabe 3: Punkt 1 = 950, Punkt 2 = 650, Punkt 3 = 930, Punkt 4 = 990,

Aufgabe 4: Punkt 1 = 410, Punkt 2 = 690, Punkt 3 = 550, Punkt 4 = 630,