

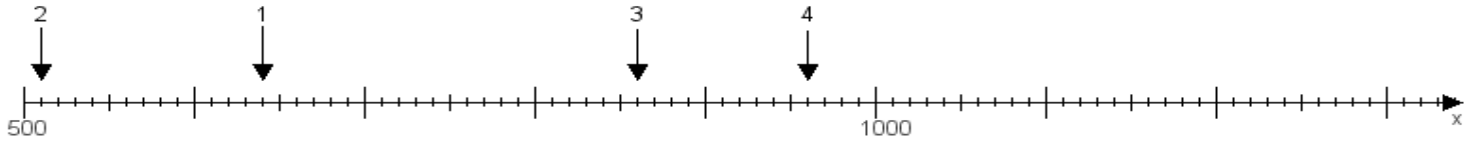
Name:

Klasse:

Datum:

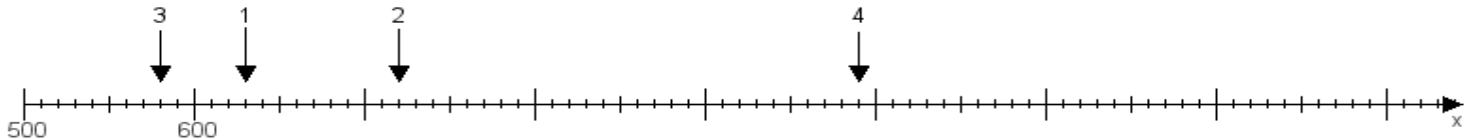
Aufgabe 1:

Ermittle die Werte von den Punkten 1 bis 4.



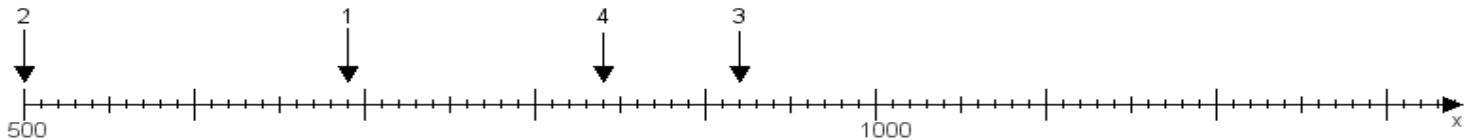
Aufgabe 2:

Ermittle die Werte von den Punkten 1 bis 4.



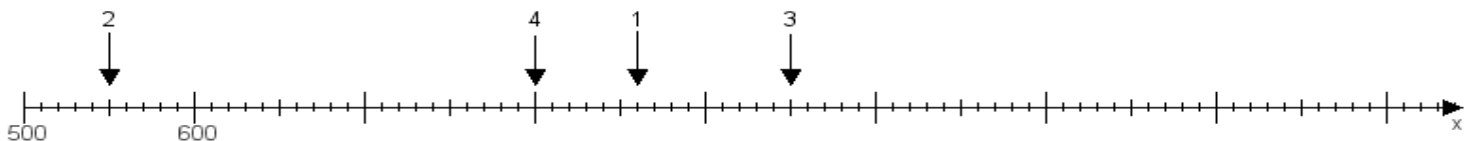
Aufgabe 3:

Ermittle die Werte von den Punkten 1 bis 4.



Aufgabe 4:

Ermittle die Werte von den Punkten 1 bis 4.



www.das-bastelteam.de -> Zahlenstrahl mit 4 Punkten. Blatt Nr.:237
Lösungen:

Aufgabe 1: Punkt 1 = 640, Punkt 2 = 510, Punkt 3 = 860, Punkt 4 = 960,

Aufgabe 2: Punkt 1 = 630, Punkt 2 = 720, Punkt 3 = 580, Punkt 4 = 990,

Aufgabe 3: Punkt 1 = 690, Punkt 2 = 500, Punkt 3 = 920, Punkt 4 = 840,

Aufgabe 4: Punkt 1 = 860, Punkt 2 = 550, Punkt 3 = 950, Punkt 4 = 800,