

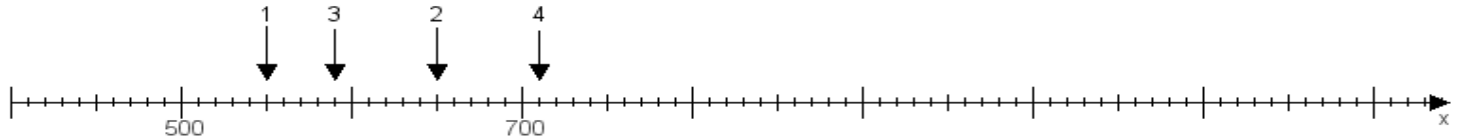
Name:

Klasse:

Datum:

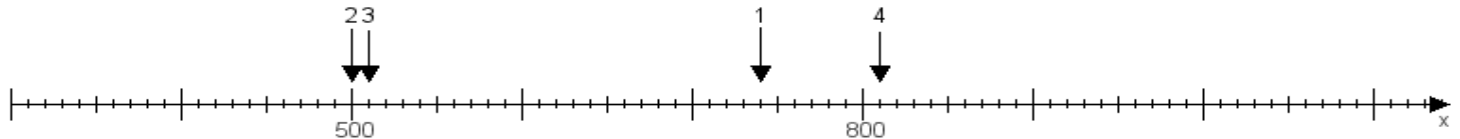
Aufgabe 1:

Ermittle die Werte von den Punkten 1 bis 4.



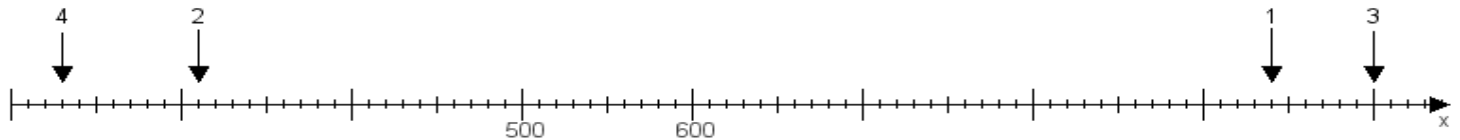
Aufgabe 2:

Ermittle die Werte von den Punkten 1 bis 4.



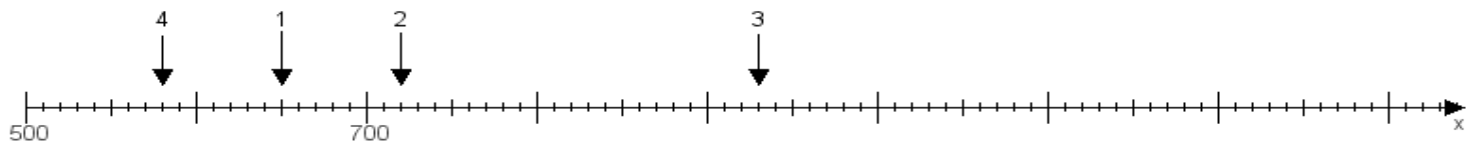
Aufgabe 3:

Ermittle die Werte von den Punkten 1 bis 4.



Aufgabe 4:

Ermittle die Werte von den Punkten 1 bis 4.



www.das-bastelteam.de -> Zahlenstrahl mit 4 Punkten. Blatt Nr.:236
Lösungen:

Aufgabe 1: Punkt 1 = 550, Punkt 2 = 650, Punkt 3 = 590, Punkt 4 = 710,

Aufgabe 2: Punkt 1 = 740, Punkt 2 = 500, Punkt 3 = 510, Punkt 4 = 810,

Aufgabe 3: Punkt 1 = 940, Punkt 2 = 310, Punkt 3 = 1000, Punkt 4 = 230,

Aufgabe 4: Punkt 1 = 650, Punkt 2 = 720, Punkt 3 = 930, Punkt 4 = 580,