

Im Zahlenbereich bis max. 1000.

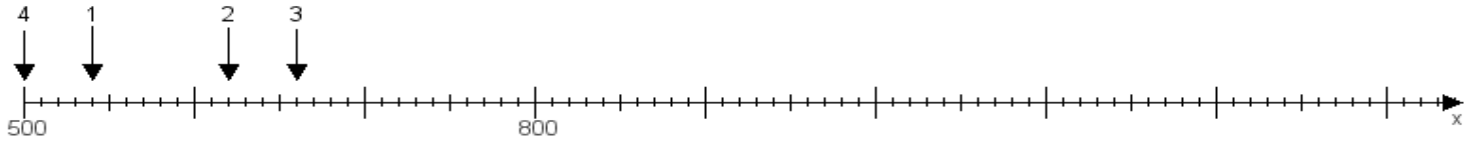
Name:

Klasse:

Datum:

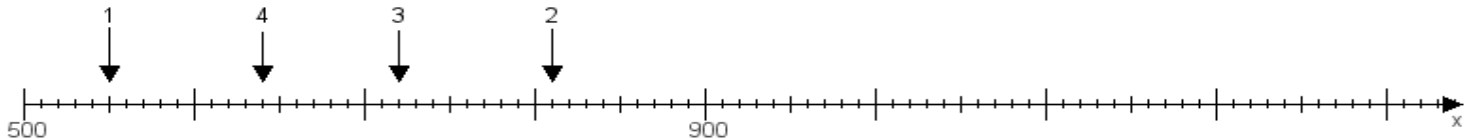
**Aufgabe 1:**

Ermittle die Werte von den Punkten 1 bis 4.



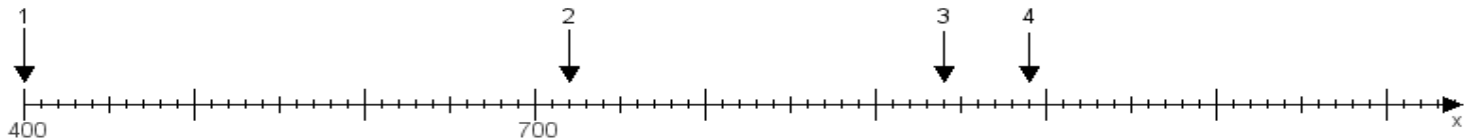
**Aufgabe 2:**

Ermittle die Werte von den Punkten 1 bis 4.



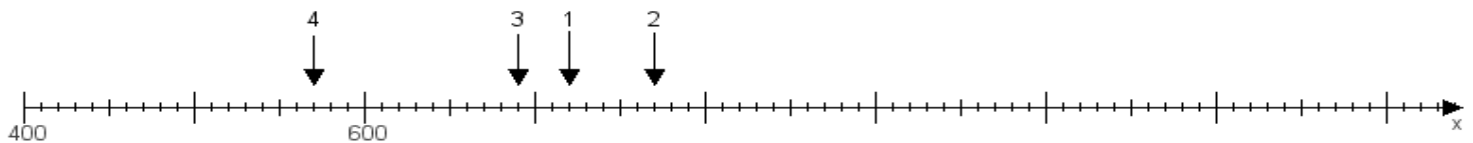
**Aufgabe 3:**

Ermittle die Werte von den Punkten 1 bis 4.



**Aufgabe 4:**

Ermittle die Werte von den Punkten 1 bis 4.



[www.das-bastelteam.de](http://www.das-bastelteam.de) -> Zahlenstrahl mit 4 Punkten. Blatt Nr.:234  
**Lösungen:**

Aufgabe 1: Punkt 1 = 540, Punkt 2 = 620, Punkt 3 = 660, Punkt 4 = 500,

Aufgabe 2: Punkt 1 = 550, Punkt 2 = 810, Punkt 3 = 720, Punkt 4 = 640,

Aufgabe 3: Punkt 1 = 400, Punkt 2 = 720, Punkt 3 = 940, Punkt 4 = 990,

Aufgabe 4: Punkt 1 = 720, Punkt 2 = 770, Punkt 3 = 690, Punkt 4 = 570,