

Im Zahlenbereich bis max. 1000.

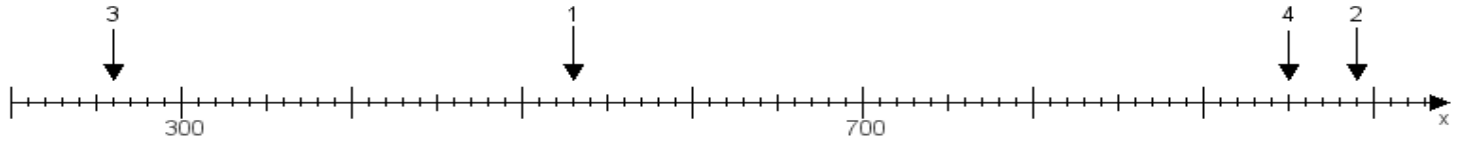
Name:

Klasse:

Datum:

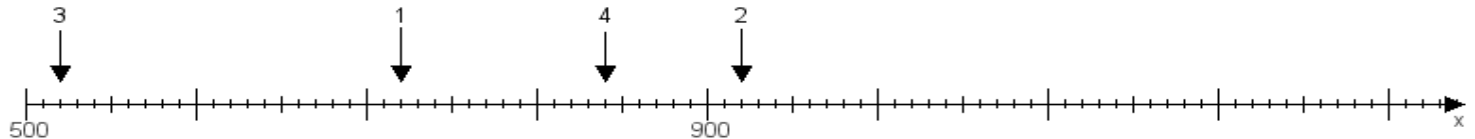
Aufgabe 1:

Ermittle die Werte von den Punkten 1 bis 4.



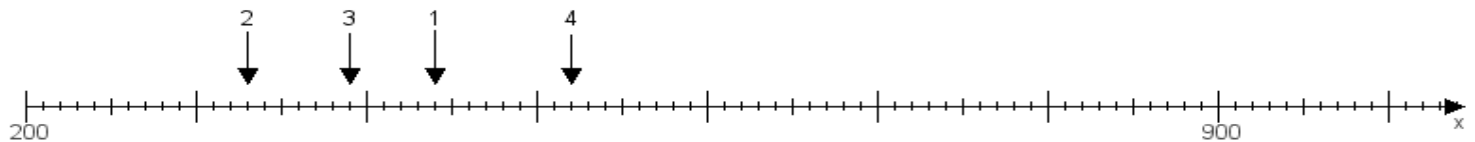
Aufgabe 2:

Ermittle die Werte von den Punkten 1 bis 4.



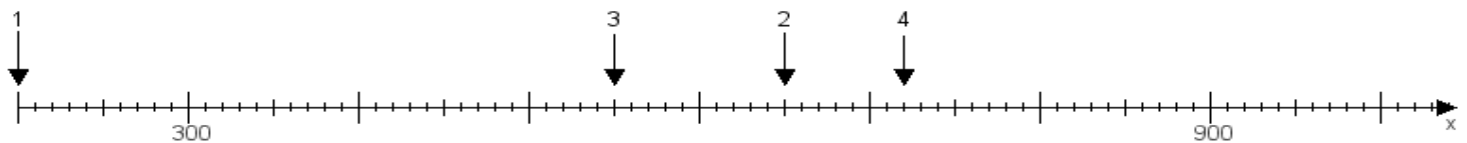
Aufgabe 3:

Ermittle die Werte von den Punkten 1 bis 4.



Aufgabe 4:

Ermittle die Werte von den Punkten 1 bis 4.



www.das-bastelteam.de -> Zahlenstrahl mit 4 Punkten. Blatt Nr.:233
Lösungen:

Aufgabe 1: Punkt 1 = 530, Punkt 2 = 990, Punkt 3 = 260, Punkt 4 = 950,

Aufgabe 2: Punkt 1 = 720, Punkt 2 = 920, Punkt 3 = 520, Punkt 4 = 840,

Aufgabe 3: Punkt 1 = 440, Punkt 2 = 330, Punkt 3 = 390, Punkt 4 = 520,

Aufgabe 4: Punkt 1 = 200, Punkt 2 = 650, Punkt 3 = 550, Punkt 4 = 720,