

Im Zahlenbereich bis max. 1000.

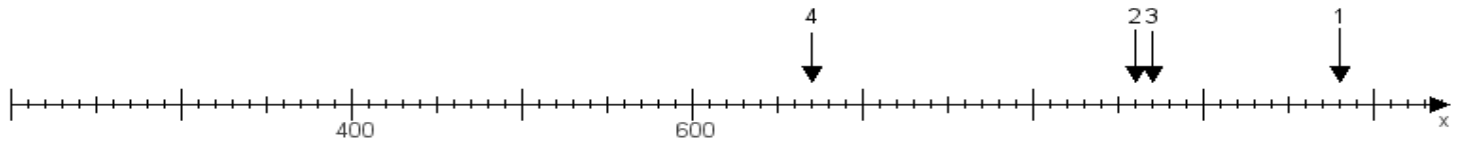
Name:

Klasse:

Datum:

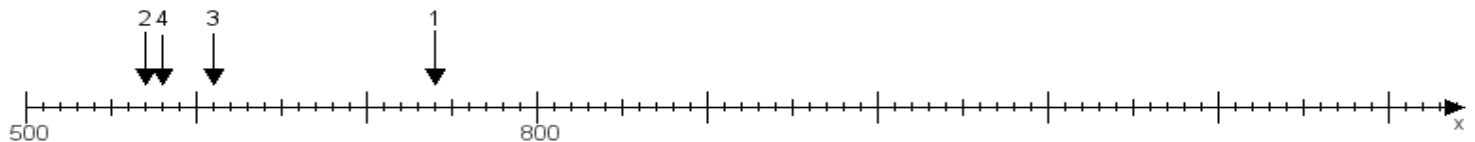
**Aufgabe 1:**

Ermittle die Werte von den Punkten 1 bis 4.



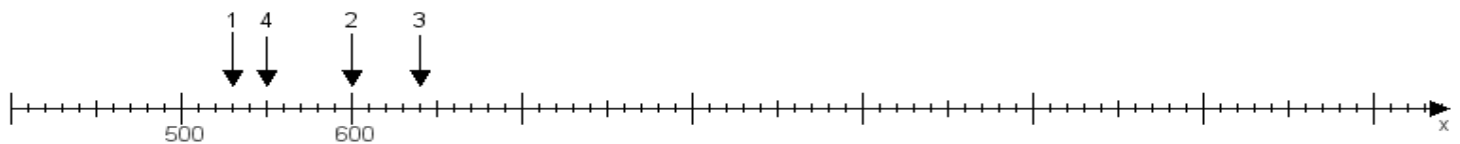
**Aufgabe 2:**

Ermittle die Werte von den Punkten 1 bis 4.



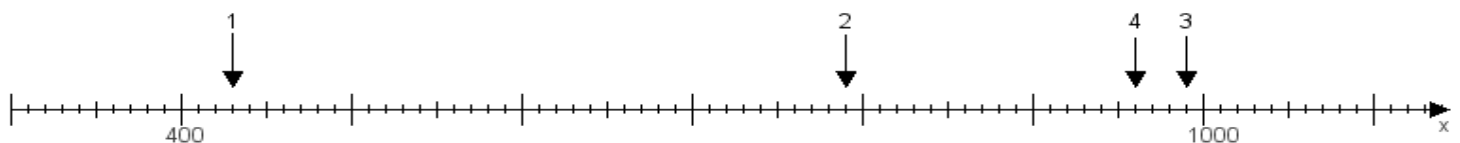
**Aufgabe 3:**

Ermittle die Werte von den Punkten 1 bis 4.



**Aufgabe 4:**

Ermittle die Werte von den Punkten 1 bis 4.



[www.das-bastelteam.de](http://www.das-bastelteam.de) -> Zahlenstrahl mit 4 Punkten. Blatt Nr.:232  
**Lösungen:**

Aufgabe 1: Punkt 1 = 980, Punkt 2 = 860, Punkt 3 = 870, Punkt 4 = 670,

Aufgabe 2: Punkt 1 = 740, Punkt 2 = 570, Punkt 3 = 610, Punkt 4 = 580,

Aufgabe 3: Punkt 1 = 530, Punkt 2 = 600, Punkt 3 = 640, Punkt 4 = 550,

Aufgabe 4: Punkt 1 = 430, Punkt 2 = 790, Punkt 3 = 990, Punkt 4 = 960,