

Im Zahlenbereich bis max. 1000.

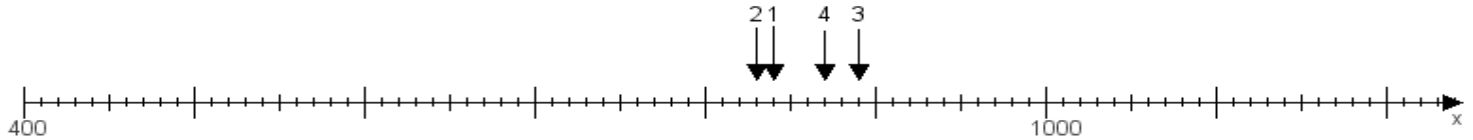
Name:

Klasse:

Datum:

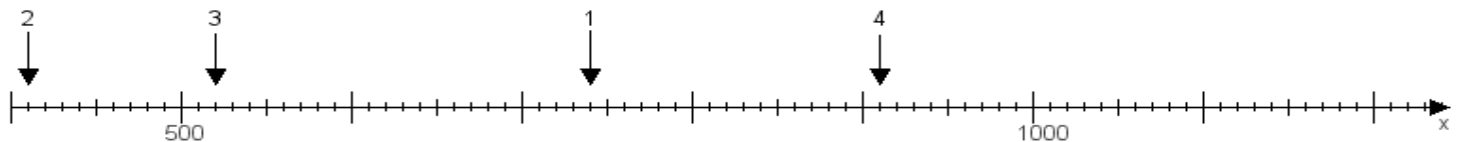
**Aufgabe 1:**

Ermittle die Werte von den Punkten 1 bis 4.



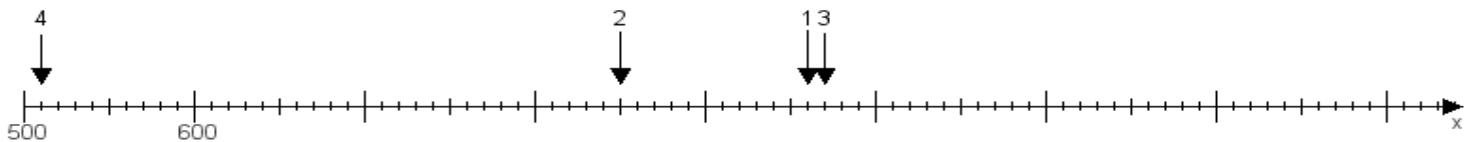
**Aufgabe 2:**

Ermittle die Werte von den Punkten 1 bis 4.



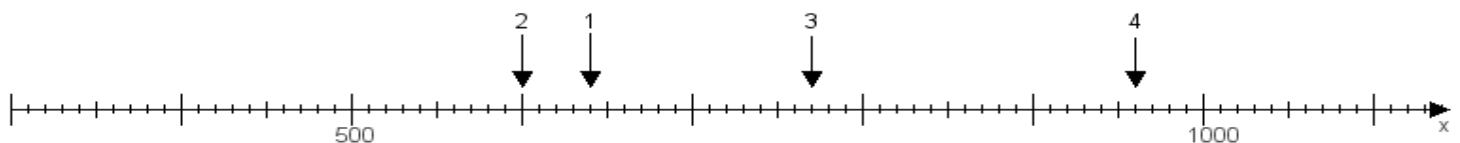
**Aufgabe 3:**

Ermittle die Werte von den Punkten 1 bis 4.



**Aufgabe 4:**

Ermittle die Werte von den Punkten 1 bis 4.



[www.das-bastelteam.de](http://www.das-bastelteam.de) -> Zahlenstrahl mit 4 Punkten. Blatt Nr.:231  
Lösungen:

Aufgabe 1: Punkt 1 = 840, Punkt 2 = 830, Punkt 3 = 890, Punkt 4 = 870,

Aufgabe 2: Punkt 1 = 740, Punkt 2 = 410, Punkt 3 = 520, Punkt 4 = 910,

Aufgabe 3: Punkt 1 = 960, Punkt 2 = 850, Punkt 3 = 970, Punkt 4 = 510,

Aufgabe 4: Punkt 1 = 640, Punkt 2 = 600, Punkt 3 = 770, Punkt 4 = 960,