

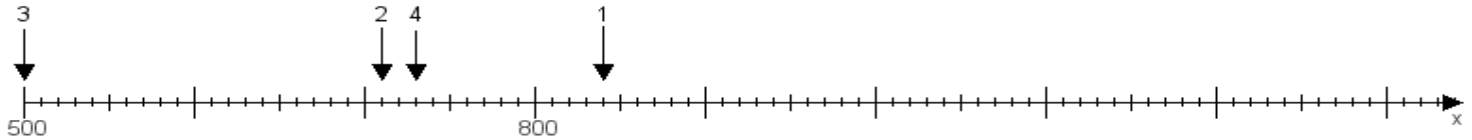
Name:

Klasse:

Datum:

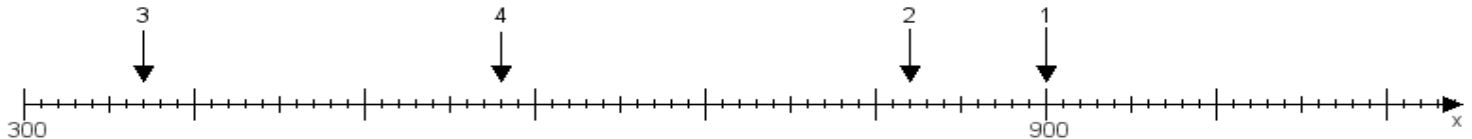
Aufgabe 1:

Ermittle die Werte von den Punkten 1 bis 4.



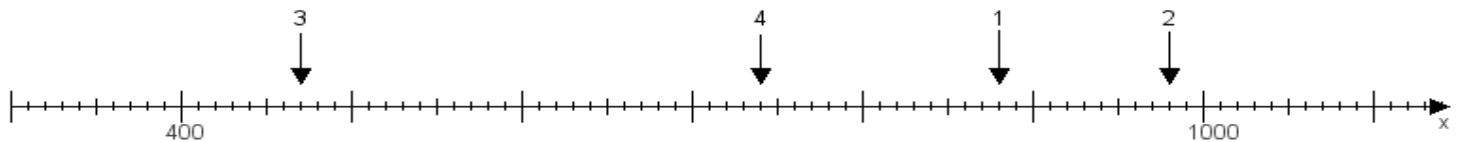
Aufgabe 2:

Ermittle die Werte von den Punkten 1 bis 4.



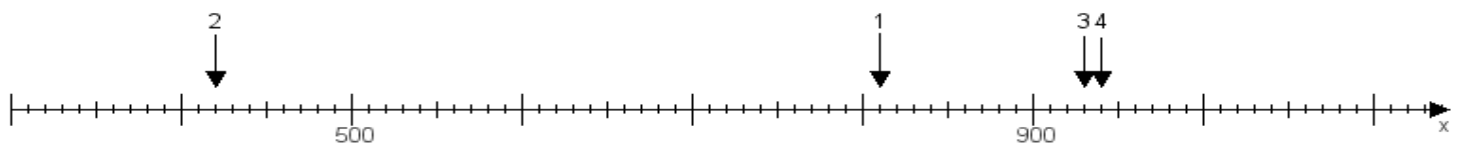
Aufgabe 3:

Ermittle die Werte von den Punkten 1 bis 4.



Aufgabe 4:

Ermittle die Werte von den Punkten 1 bis 4.



www.das-bastelteam.de -> Zahlenstrahl mit 4 Punkten. Blatt Nr.:230
Lösungen:

Aufgabe 1: Punkt 1 = 840, Punkt 2 = 710, Punkt 3 = 500, Punkt 4 = 730,

Aufgabe 2: Punkt 1 = 900, Punkt 2 = 820, Punkt 3 = 370, Punkt 4 = 580,

Aufgabe 3: Punkt 1 = 880, Punkt 2 = 980, Punkt 3 = 470, Punkt 4 = 740,

Aufgabe 4: Punkt 1 = 810, Punkt 2 = 420, Punkt 3 = 930, Punkt 4 = 940,