

Im Zahlenbereich bis max. 1000.

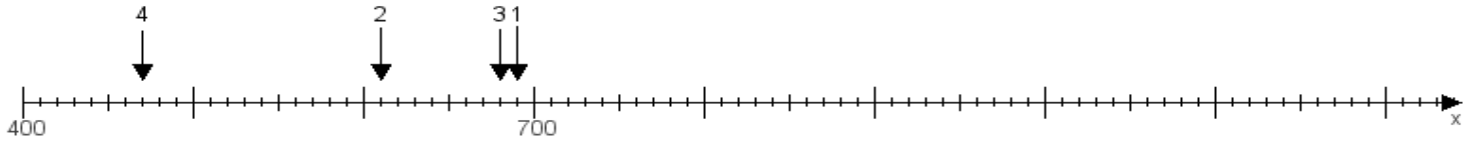
Name:

Klasse:

Datum:

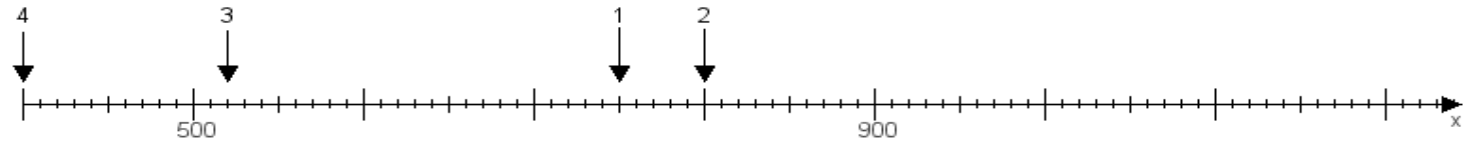
Aufgabe 1:

Ermittle die Werte von den Punkten 1 bis 4.



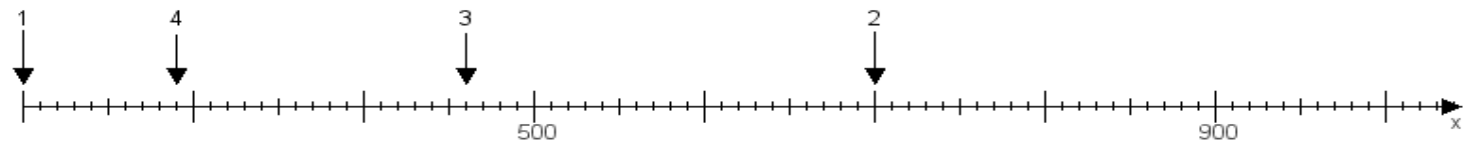
Aufgabe 2:

Ermittle die Werte von den Punkten 1 bis 4.



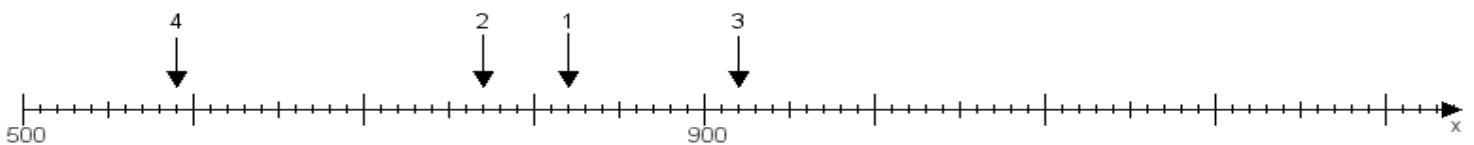
Aufgabe 3:

Ermittle die Werte von den Punkten 1 bis 4.



Aufgabe 4:

Ermittle die Werte von den Punkten 1 bis 4.



www.das-bastelteam.de -> Zahlenstrahl mit 4 Punkten. Blatt Nr.:228
Lösungen:

Aufgabe 1: Punkt 1 = 690, Punkt 2 = 610, Punkt 3 = 680, Punkt 4 = 470,

Aufgabe 2: Punkt 1 = 750, Punkt 2 = 800, Punkt 3 = 520, Punkt 4 = 400,

Aufgabe 3: Punkt 1 = 200, Punkt 2 = 700, Punkt 3 = 460, Punkt 4 = 290,

Aufgabe 4: Punkt 1 = 820, Punkt 2 = 770, Punkt 3 = 920, Punkt 4 = 590,