

Im Zahlenbereich bis max. 1000.

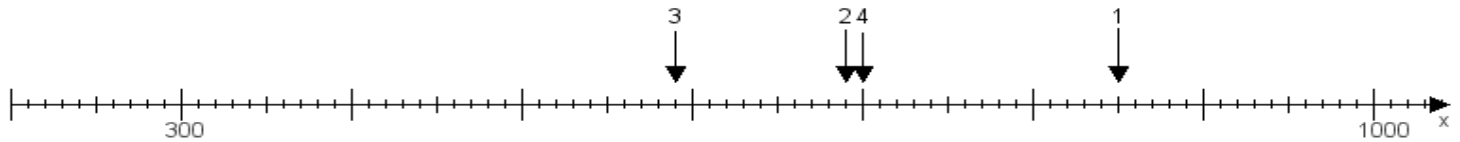
Name:

Klasse:

Datum:

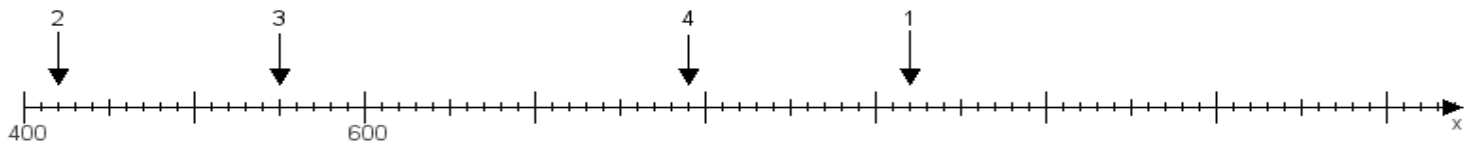
Aufgabe 1:

Ermittle die Werte von den Punkten 1 bis 4.



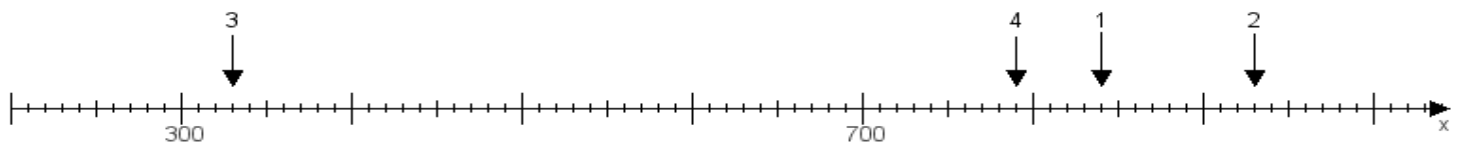
Aufgabe 2:

Ermittle die Werte von den Punkten 1 bis 4.



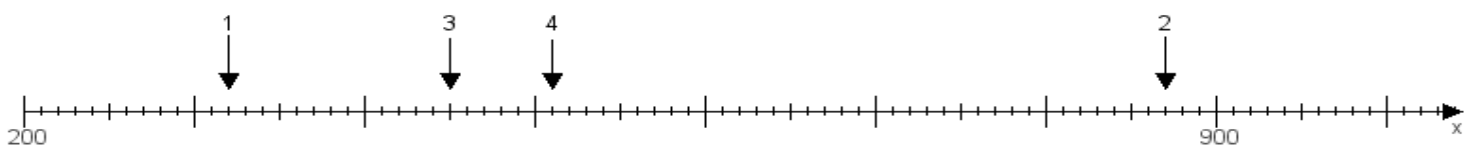
Aufgabe 3:

Ermittle die Werte von den Punkten 1 bis 4.



Aufgabe 4:

Ermittle die Werte von den Punkten 1 bis 4.



www.das-bastelteam.de -> Zahlenstrahl mit 4 Punkten. Blatt Nr.:224
Lösungen:

Aufgabe 1: Punkt 1 = 850, Punkt 2 = 690, Punkt 3 = 590, Punkt 4 = 700,

Aufgabe 2: Punkt 1 = 920, Punkt 2 = 420, Punkt 3 = 550, Punkt 4 = 790,

Aufgabe 3: Punkt 1 = 840, Punkt 2 = 930, Punkt 3 = 330, Punkt 4 = 790,

Aufgabe 4: Punkt 1 = 320, Punkt 2 = 870, Punkt 3 = 450, Punkt 4 = 510,