

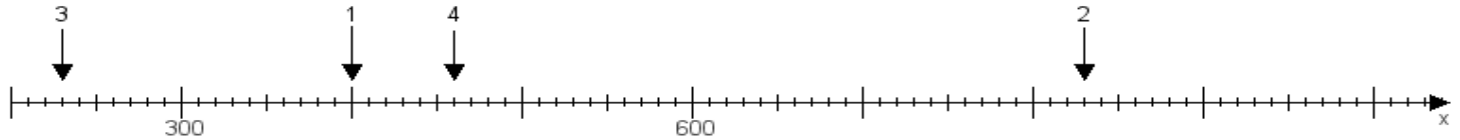
Name:

Klasse:

Datum:

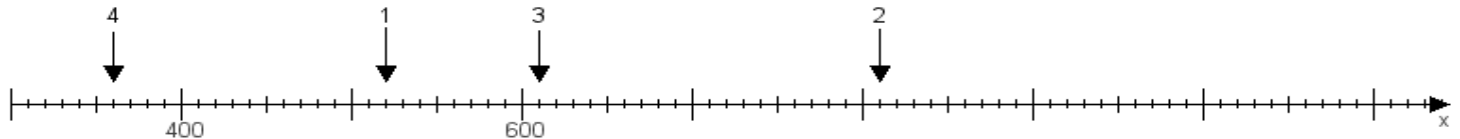
**Aufgabe 1:**

Ermittle die Werte von den Punkten 1 bis 4.



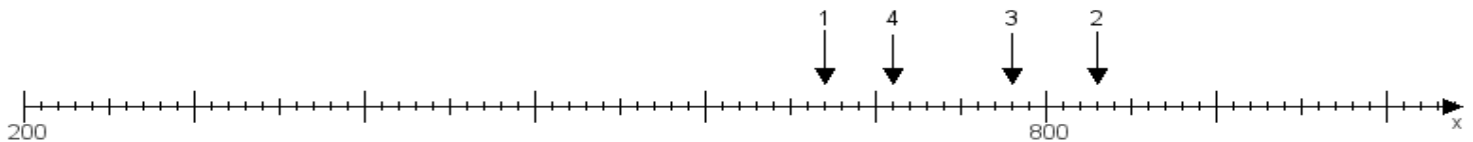
**Aufgabe 2:**

Ermittle die Werte von den Punkten 1 bis 4.



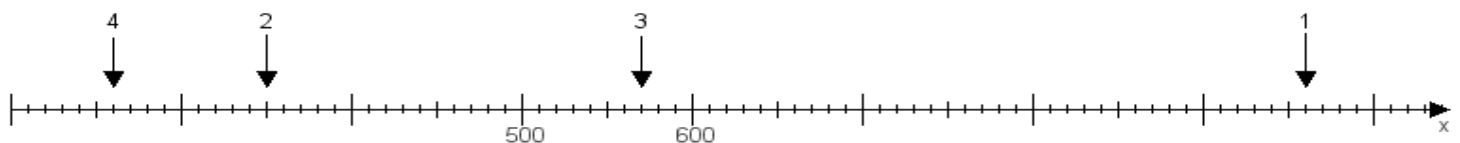
**Aufgabe 3:**

Ermittle die Werte von den Punkten 1 bis 4.



**Aufgabe 4:**

Ermittle die Werte von den Punkten 1 bis 4.



[www.das-bastelteam.de](http://www.das-bastelteam.de) -> Zahlenstrahl mit 4 Punkten. Blatt Nr.:223  
**Lösungen:**

Aufgabe 1: Punkt 1 = 400, Punkt 2 = 830, Punkt 3 = 230, Punkt 4 = 460,

Aufgabe 2: Punkt 1 = 520, Punkt 2 = 810, Punkt 3 = 610, Punkt 4 = 360,

Aufgabe 3: Punkt 1 = 670, Punkt 2 = 830, Punkt 3 = 780, Punkt 4 = 710,

Aufgabe 4: Punkt 1 = 960, Punkt 2 = 350, Punkt 3 = 570, Punkt 4 = 260,