

Im Zahlenbereich bis max. 1000.

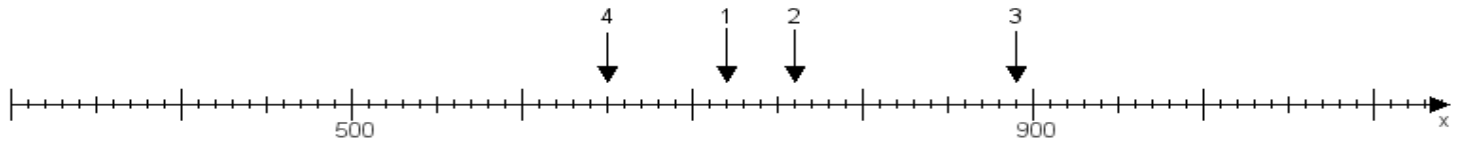
Name:

Klasse:

Datum:

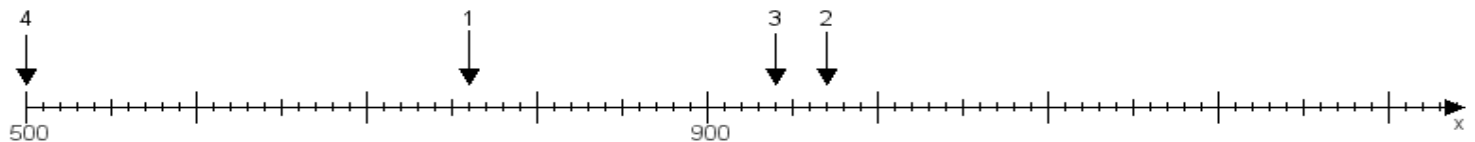
Aufgabe 1:

Ermittle die Werte von den Punkten 1 bis 4.



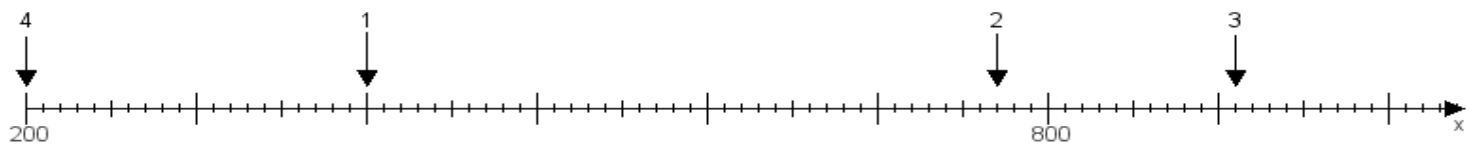
Aufgabe 2:

Ermittle die Werte von den Punkten 1 bis 4.



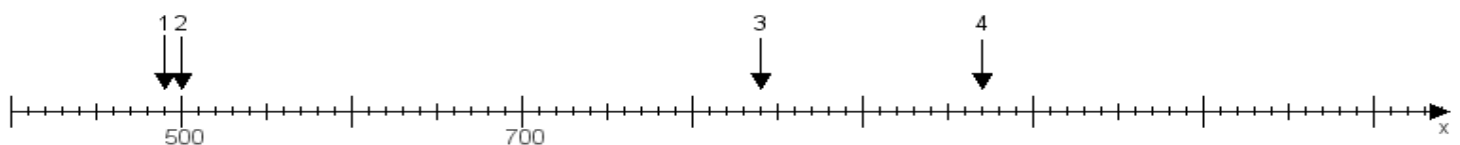
Aufgabe 3:

Ermittle die Werte von den Punkten 1 bis 4.



Aufgabe 4:

Ermittle die Werte von den Punkten 1 bis 4.



www.das-bastelteam.de -> Zahlenstrahl mit 4 Punkten. Blatt Nr.:220
Lösungen:

Aufgabe 1: Punkt 1 = 720, Punkt 2 = 760, Punkt 3 = 890, Punkt 4 = 650,

Aufgabe 2: Punkt 1 = 760, Punkt 2 = 970, Punkt 3 = 940, Punkt 4 = 500,

Aufgabe 3: Punkt 1 = 400, Punkt 2 = 770, Punkt 3 = 910, Punkt 4 = 200,

Aufgabe 4: Punkt 1 = 490, Punkt 2 = 500, Punkt 3 = 840, Punkt 4 = 970,