

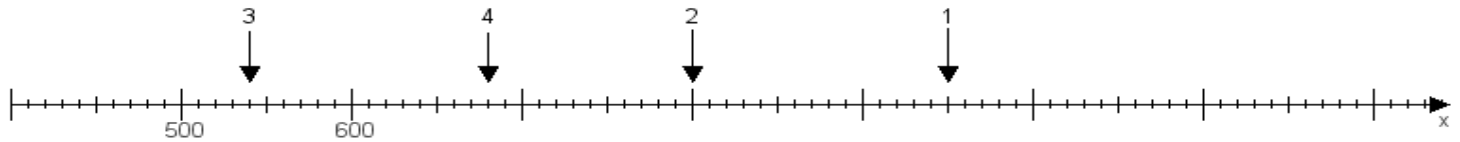
Name:

Klasse:

Datum:

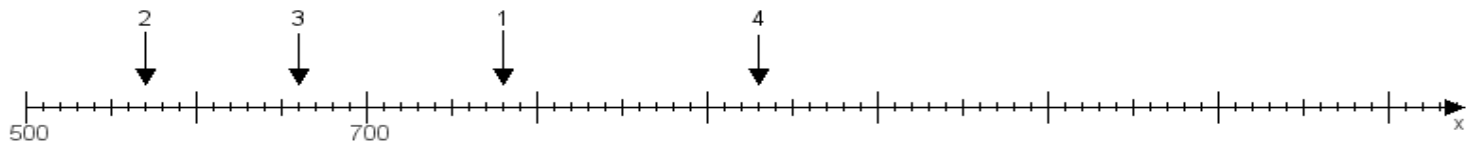
**Aufgabe 1:**

Ermittle die Werte von den Punkten 1 bis 4.



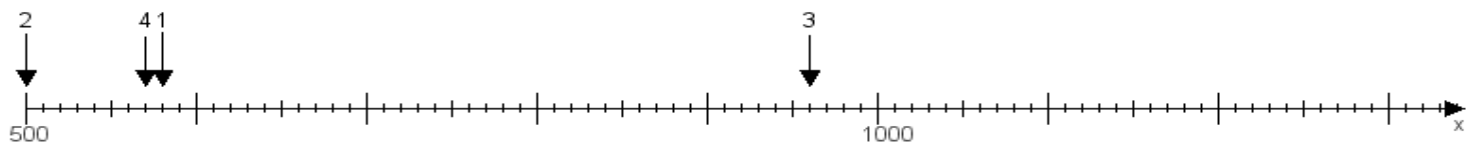
**Aufgabe 2:**

Ermittle die Werte von den Punkten 1 bis 4.



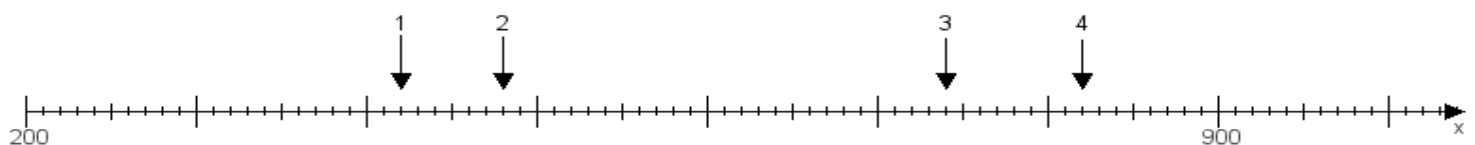
**Aufgabe 3:**

Ermittle die Werte von den Punkten 1 bis 4.



**Aufgabe 4:**

Ermittle die Werte von den Punkten 1 bis 4.



[www.das-bastelteam.de](http://www.das-bastelteam.de) -> Zahlenstrahl mit 4 Punkten. Blatt Nr.:217  
Lösungen:

Aufgabe 1: Punkt 1 = 950, Punkt 2 = 800, Punkt 3 = 540, Punkt 4 = 680,

Aufgabe 2: Punkt 1 = 780, Punkt 2 = 570, Punkt 3 = 660, Punkt 4 = 930,

Aufgabe 3: Punkt 1 = 580, Punkt 2 = 500, Punkt 3 = 960, Punkt 4 = 570,

Aufgabe 4: Punkt 1 = 420, Punkt 2 = 480, Punkt 3 = 740, Punkt 4 = 820,