

Im Zahlenbereich bis max. 1000.

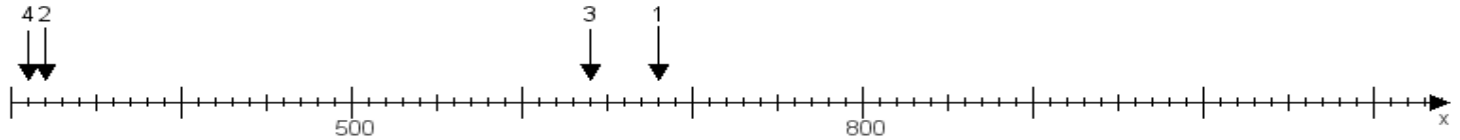
Name:

Klasse:

Datum:

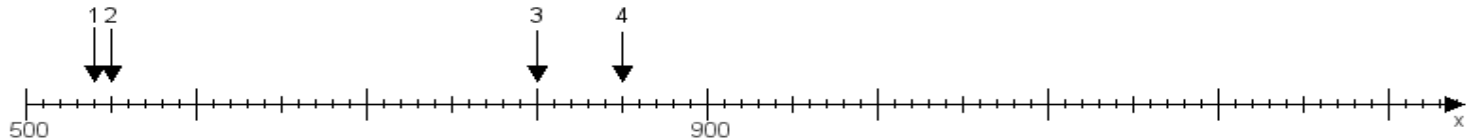
**Aufgabe 1:**

Ermittle die Werte von den Punkten 1 bis 4.



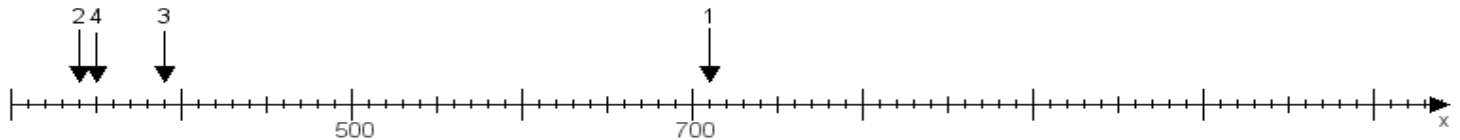
**Aufgabe 2:**

Ermittle die Werte von den Punkten 1 bis 4.



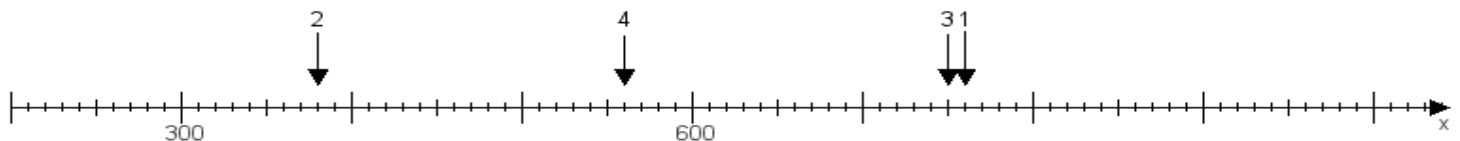
**Aufgabe 3:**

Ermittle die Werte von den Punkten 1 bis 4.



**Aufgabe 4:**

Ermittle die Werte von den Punkten 1 bis 4.



[www.das-bastelteam.de](http://www.das-bastelteam.de) -> Zahlenstrahl mit 4 Punkten. Blatt Nr.:216  
**Lösungen:**

Aufgabe 1: Punkt 1 = 680, Punkt 2 = 320, Punkt 3 = 640, Punkt 4 = 310,

Aufgabe 2: Punkt 1 = 540, Punkt 2 = 550, Punkt 3 = 800, Punkt 4 = 850,

Aufgabe 3: Punkt 1 = 710, Punkt 2 = 340, Punkt 3 = 390, Punkt 4 = 350,

Aufgabe 4: Punkt 1 = 760, Punkt 2 = 380, Punkt 3 = 750, Punkt 4 = 560,