

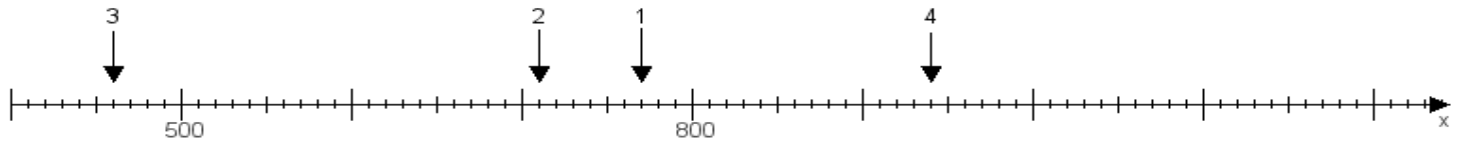
Name:

Klasse:

Datum:

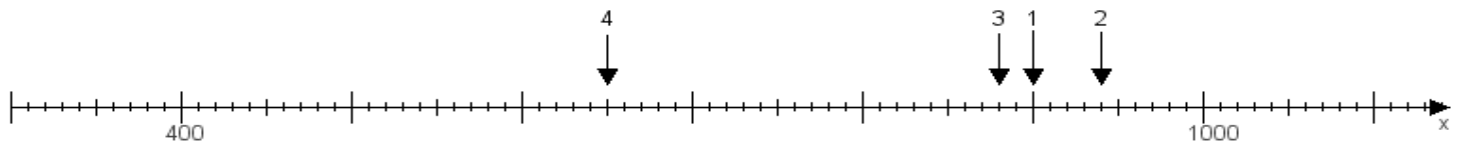
Aufgabe 1:

Ermittle die Werte von den Punkten 1 bis 4.



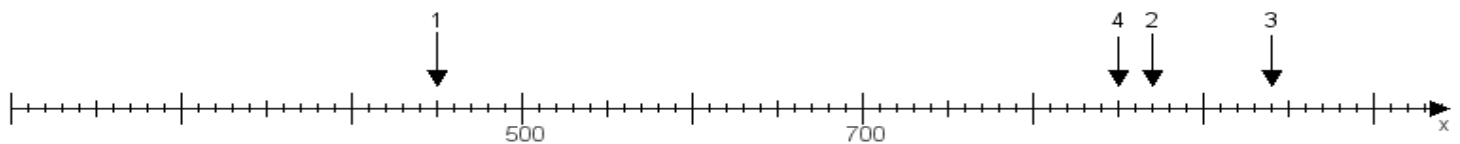
Aufgabe 2:

Ermittle die Werte von den Punkten 1 bis 4.



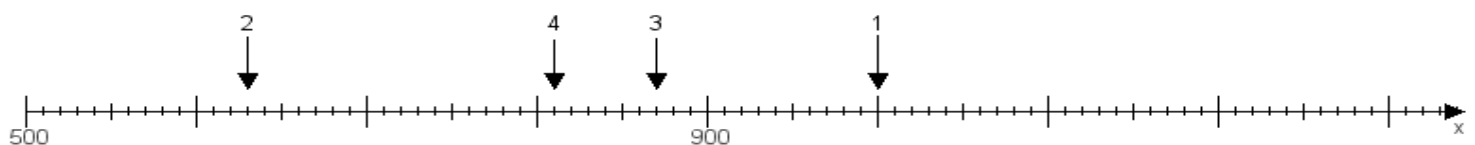
Aufgabe 3:

Ermittle die Werte von den Punkten 1 bis 4.



Aufgabe 4:

Ermittle die Werte von den Punkten 1 bis 4.



www.das-bastelteam.de -> Zahlenstrahl mit 4 Punkten. Blatt Nr.:213
Lösungen:

Aufgabe 1: Punkt 1 = 770, Punkt 2 = 710, Punkt 3 = 460, Punkt 4 = 940,

Aufgabe 2: Punkt 1 = 900, Punkt 2 = 940, Punkt 3 = 880, Punkt 4 = 650,

Aufgabe 3: Punkt 1 = 450, Punkt 2 = 870, Punkt 3 = 940, Punkt 4 = 850,

Aufgabe 4: Punkt 1 = 1000, Punkt 2 = 630, Punkt 3 = 870, Punkt 4 = 810,