

Im Zahlenbereich bis max. 1000.

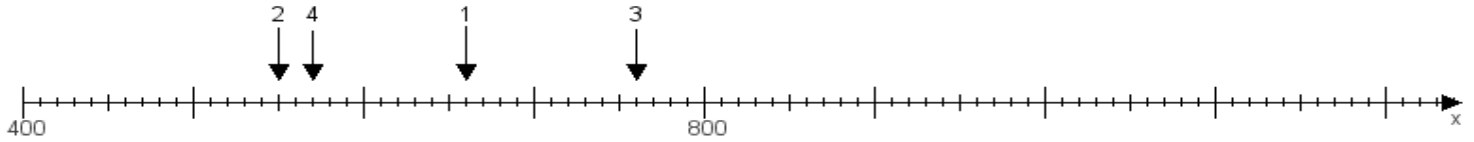
Name:

Klasse:

Datum:

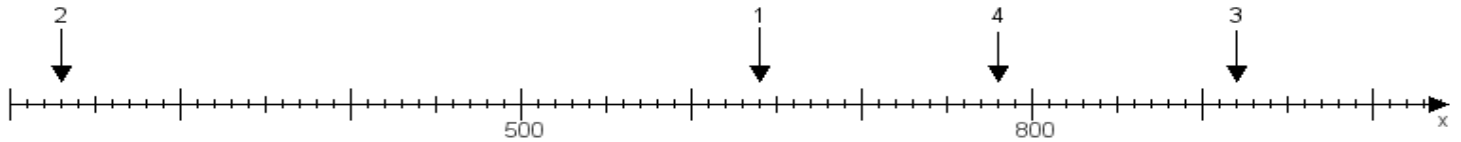
Aufgabe 1:

Ermittle die Werte von den Punkten 1 bis 4.



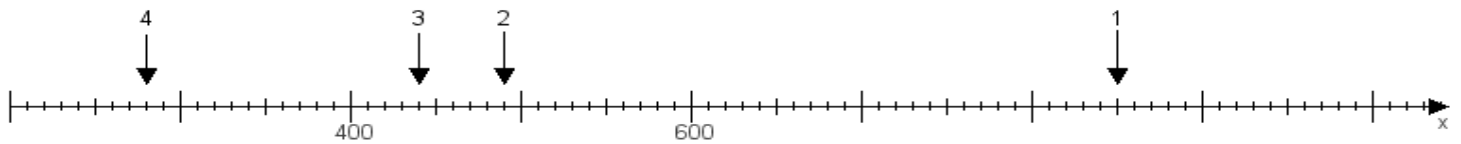
Aufgabe 2:

Ermittle die Werte von den Punkten 1 bis 4.



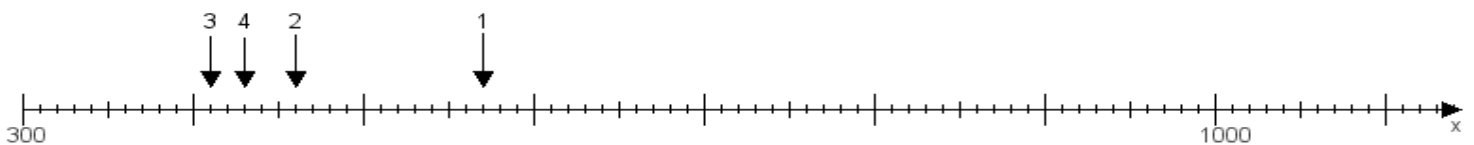
Aufgabe 3:

Ermittle die Werte von den Punkten 1 bis 4.



Aufgabe 4:

Ermittle die Werte von den Punkten 1 bis 4.



www.das-bastelteam.de -> Zahlenstrahl mit 4 Punkten. Blatt Nr.:212
Lösungen:

Aufgabe 1: Punkt 1 = 660, Punkt 2 = 550, Punkt 3 = 760, Punkt 4 = 570,

Aufgabe 2: Punkt 1 = 640, Punkt 2 = 230, Punkt 3 = 920, Punkt 4 = 780,

Aufgabe 3: Punkt 1 = 850, Punkt 2 = 490, Punkt 3 = 440, Punkt 4 = 280,

Aufgabe 4: Punkt 1 = 570, Punkt 2 = 460, Punkt 3 = 410, Punkt 4 = 430,