

Im Zahlenbereich bis max. 1000.

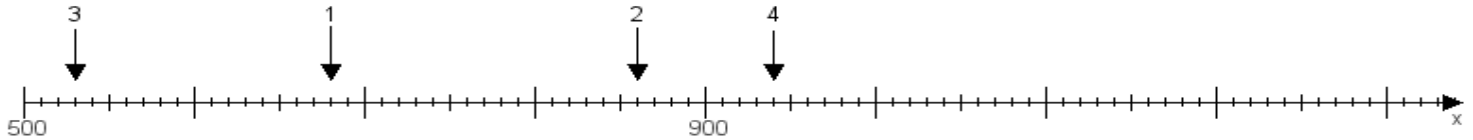
Name:

Klasse:

Datum:

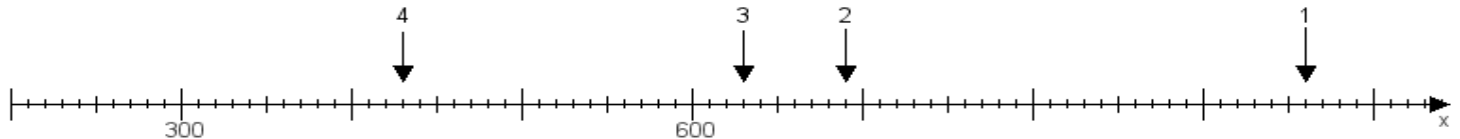
Aufgabe 1:

Ermittle die Werte von den Punkten 1 bis 4.



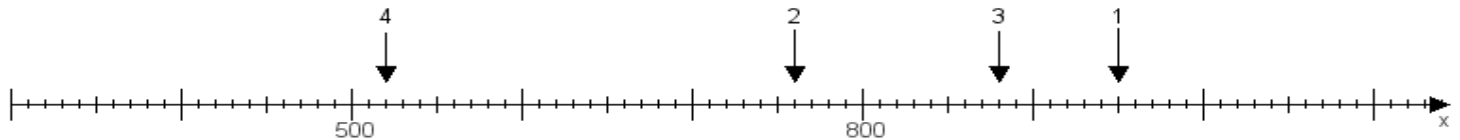
Aufgabe 2:

Ermittle die Werte von den Punkten 1 bis 4.



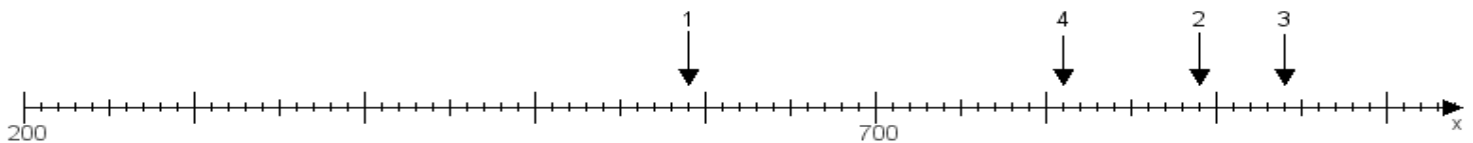
Aufgabe 3:

Ermittle die Werte von den Punkten 1 bis 4.



Aufgabe 4:

Ermittle die Werte von den Punkten 1 bis 4.



www.das-bastelteam.de -> Zahlenstrahl mit 4 Punkten. Blatt Nr.:211
Lösungen:

Aufgabe 1: Punkt 1 = 680, Punkt 2 = 860, Punkt 3 = 530, Punkt 4 = 940,

Aufgabe 2: Punkt 1 = 960, Punkt 2 = 690, Punkt 3 = 630, Punkt 4 = 430,

Aufgabe 3: Punkt 1 = 950, Punkt 2 = 760, Punkt 3 = 880, Punkt 4 = 520,

Aufgabe 4: Punkt 1 = 590, Punkt 2 = 890, Punkt 3 = 940, Punkt 4 = 810,