

Im Zahlenbereich bis max. 1000.

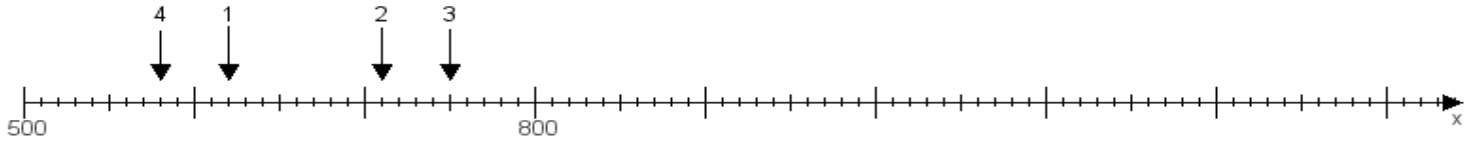
Name:

Klasse:

Datum:

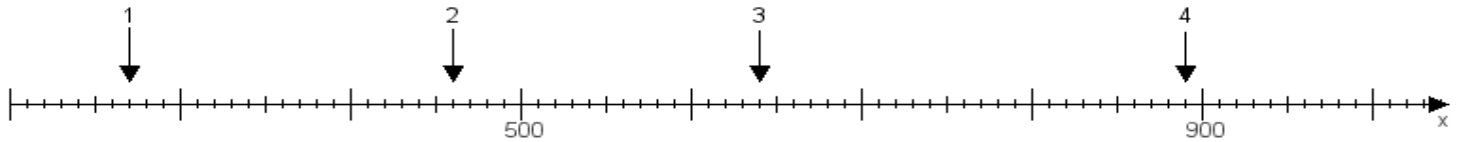
**Aufgabe 1:**

Ermittle die Werte von den Punkten 1 bis 4.



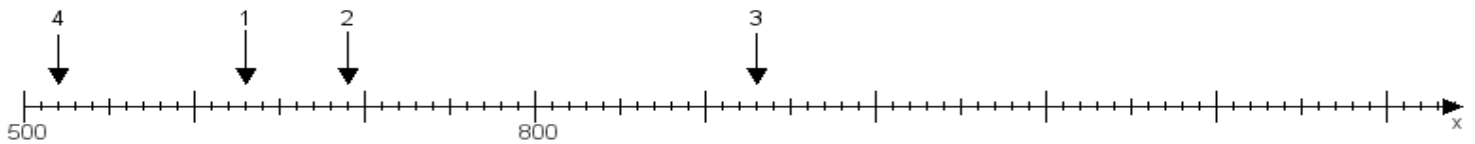
**Aufgabe 2:**

Ermittle die Werte von den Punkten 1 bis 4.



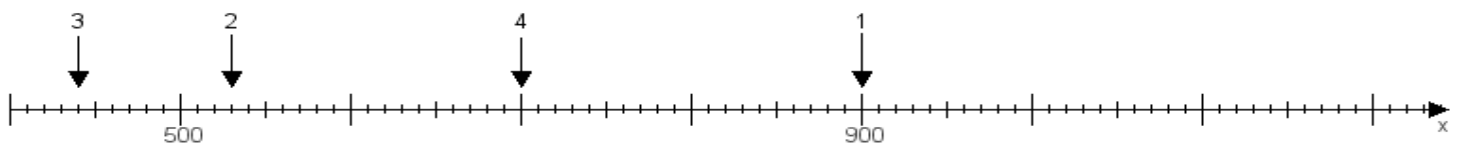
**Aufgabe 3:**

Ermittle die Werte von den Punkten 1 bis 4.



**Aufgabe 4:**

Ermittle die Werte von den Punkten 1 bis 4.



[www.das-bastelteam.de](http://www.das-bastelteam.de) -> Zahlenstrahl mit 4 Punkten. Blatt Nr.:210  
Lösungen:

Aufgabe 1: Punkt 1 = 620, Punkt 2 = 710, Punkt 3 = 750, Punkt 4 = 580,

Aufgabe 2: Punkt 1 = 270, Punkt 2 = 460, Punkt 3 = 640, Punkt 4 = 890,

Aufgabe 3: Punkt 1 = 630, Punkt 2 = 690, Punkt 3 = 930, Punkt 4 = 520,

Aufgabe 4: Punkt 1 = 900, Punkt 2 = 530, Punkt 3 = 440, Punkt 4 = 700,