

Im Zahlenbereich bis max. 1000.

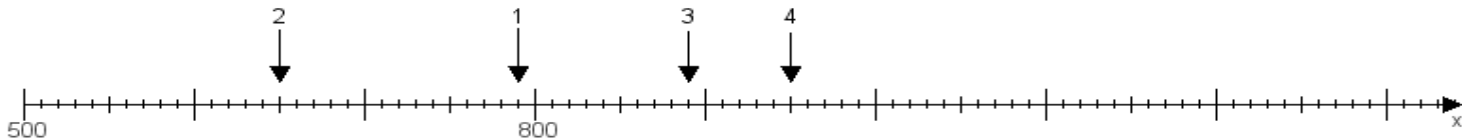
Name:

Klasse:

Datum:

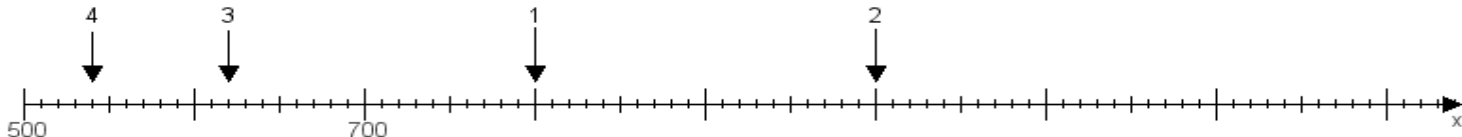
Aufgabe 1:

Ermittle die Werte von den Punkten 1 bis 4.



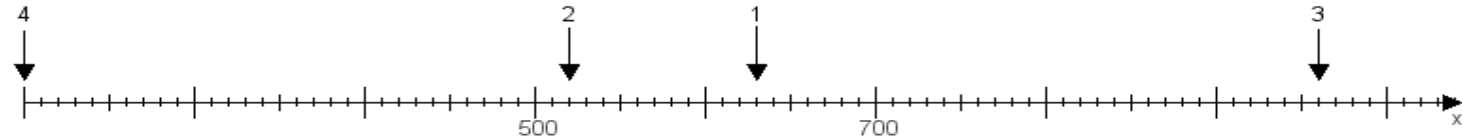
Aufgabe 2:

Ermittle die Werte von den Punkten 1 bis 4.



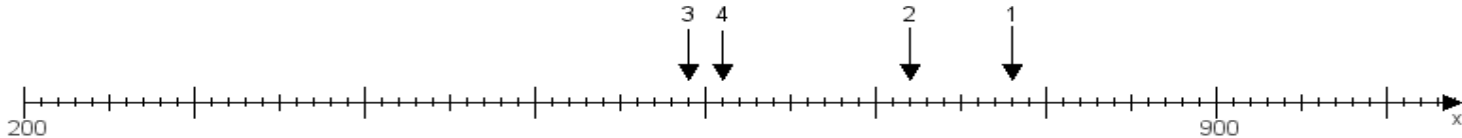
Aufgabe 3:

Ermittle die Werte von den Punkten 1 bis 4.



Aufgabe 4:

Ermittle die Werte von den Punkten 1 bis 4.



www.das-bastelteam.de -> Zahlenstrahl mit 4 Punkten. Blatt Nr.:209
Lösungen:

Aufgabe 1: Punkt 1 = 790, Punkt 2 = 650, Punkt 3 = 890, Punkt 4 = 950,

Aufgabe 2: Punkt 1 = 800, Punkt 2 = 1000, Punkt 3 = 620, Punkt 4 = 540,

Aufgabe 3: Punkt 1 = 630, Punkt 2 = 520, Punkt 3 = 960, Punkt 4 = 200,

Aufgabe 4: Punkt 1 = 780, Punkt 2 = 720, Punkt 3 = 590, Punkt 4 = 610,