

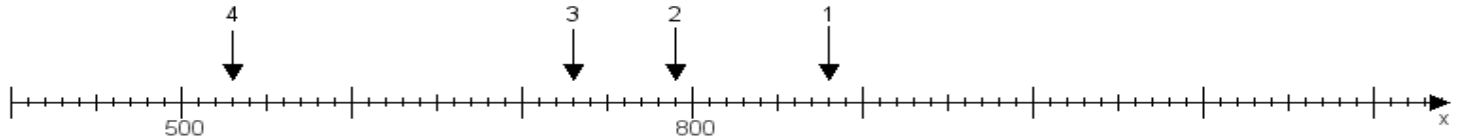
Name:

Klasse:

Datum:

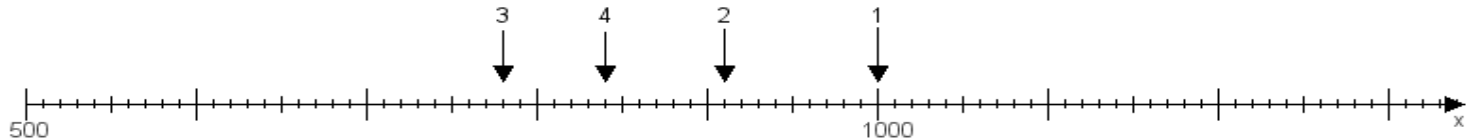
Aufgabe 1:

Ermittle die Werte von den Punkten 1 bis 4.



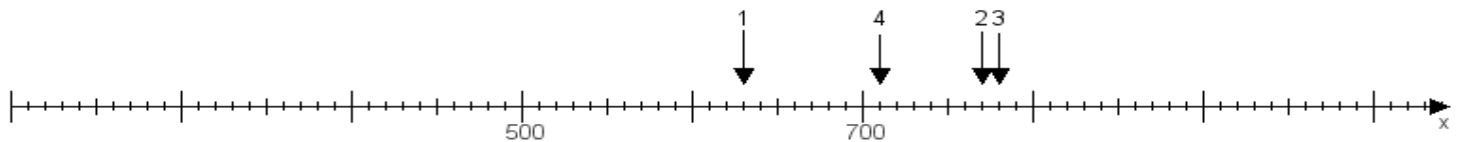
Aufgabe 2:

Ermittle die Werte von den Punkten 1 bis 4.



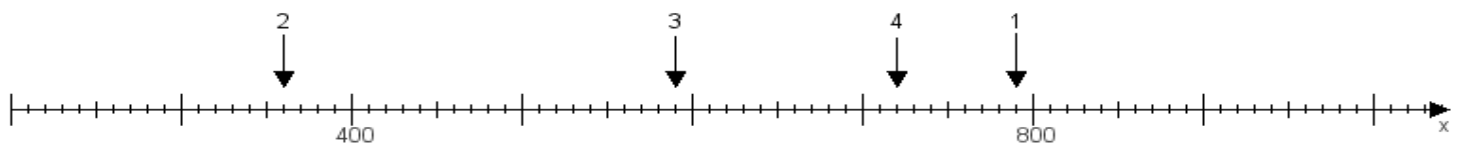
Aufgabe 3:

Ermittle die Werte von den Punkten 1 bis 4.



Aufgabe 4:

Ermittle die Werte von den Punkten 1 bis 4.



www.das-bastelteam.de -> Zahlenstrahl mit 4 Punkten. Blatt Nr.:208
Lösungen:

Aufgabe 1: Punkt 1 = 880, Punkt 2 = 790, Punkt 3 = 730, Punkt 4 = 530,

Aufgabe 2: Punkt 1 = 1000, Punkt 2 = 910, Punkt 3 = 780, Punkt 4 = 840,

Aufgabe 3: Punkt 1 = 630, Punkt 2 = 770, Punkt 3 = 780, Punkt 4 = 710,

Aufgabe 4: Punkt 1 = 790, Punkt 2 = 360, Punkt 3 = 590, Punkt 4 = 720,