

Im Zahlenbereich bis max. 1000.

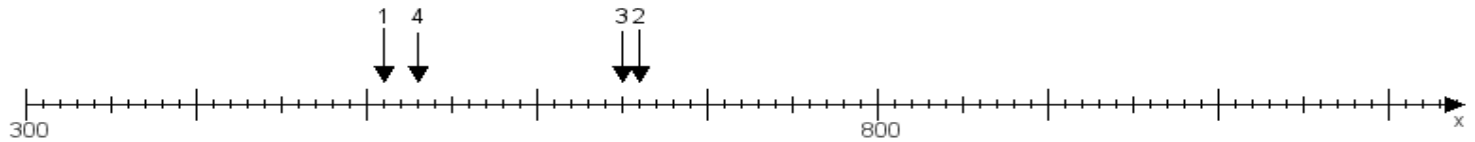
Name:

Klasse:

Datum:

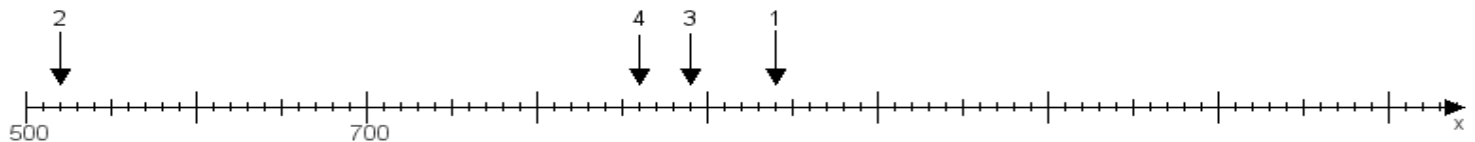
**Aufgabe 1:**

Ermittle die Werte von den Punkten 1 bis 4.



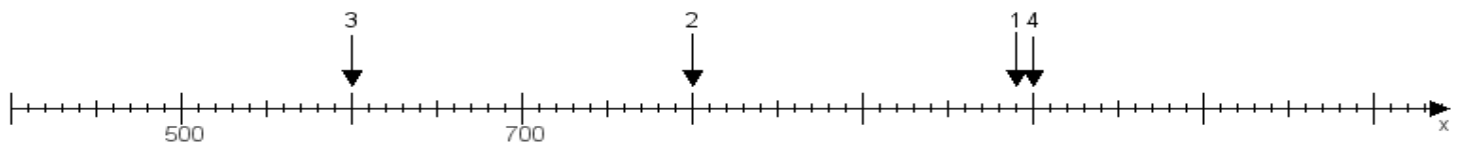
**Aufgabe 2:**

Ermittle die Werte von den Punkten 1 bis 4.



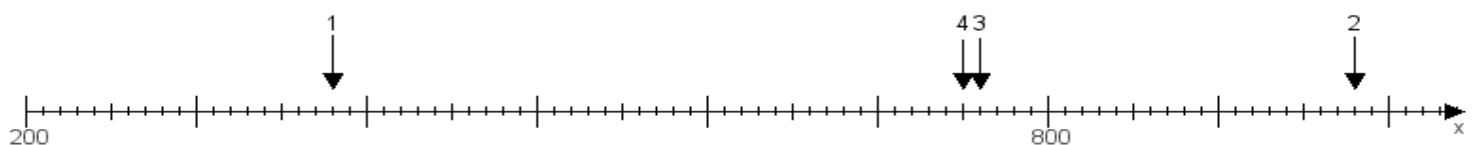
**Aufgabe 3:**

Ermittle die Werte von den Punkten 1 bis 4.



**Aufgabe 4:**

Ermittle die Werte von den Punkten 1 bis 4.



[www.das-bastelteam.de](http://www.das-bastelteam.de) -> Zahlenstrahl mit 4 Punkten. Blatt Nr.:206  
Lösungen:

Aufgabe 1: Punkt 1 = 510, Punkt 2 = 660, Punkt 3 = 650, Punkt 4 = 530,

Aufgabe 2: Punkt 1 = 940, Punkt 2 = 520, Punkt 3 = 890, Punkt 4 = 860,

Aufgabe 3: Punkt 1 = 990, Punkt 2 = 800, Punkt 3 = 600, Punkt 4 = 1000,

Aufgabe 4: Punkt 1 = 380, Punkt 2 = 980, Punkt 3 = 760, Punkt 4 = 750,