

Im Zahlenbereich bis max. 1000.

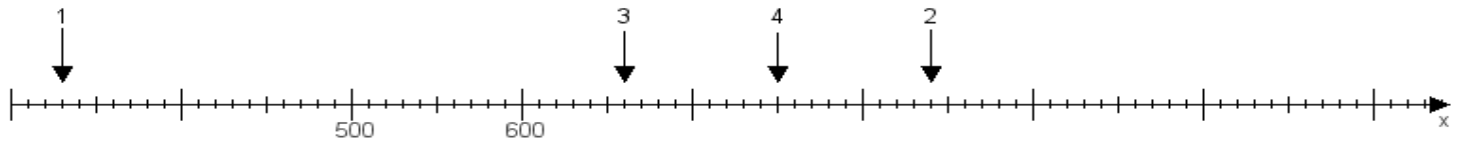
Name:

Klasse:

Datum:

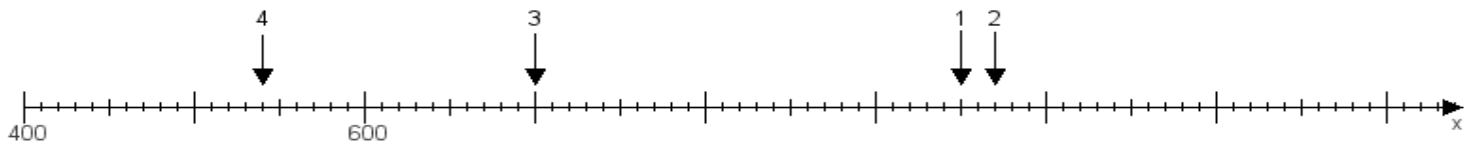
Aufgabe 1:

Ermittle die Werte von den Punkten 1 bis 4.



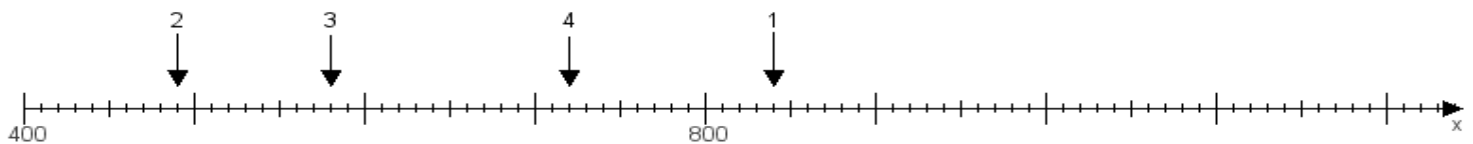
Aufgabe 2:

Ermittle die Werte von den Punkten 1 bis 4.



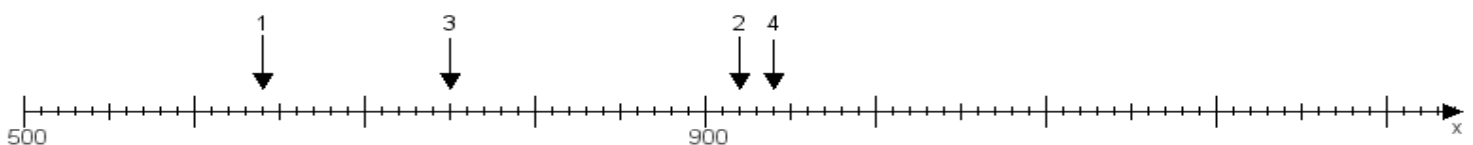
Aufgabe 3:

Ermittle die Werte von den Punkten 1 bis 4.



Aufgabe 4:

Ermittle die Werte von den Punkten 1 bis 4.



www.das-bastelteam.de -> Zahlenstrahl mit 4 Punkten. Blatt Nr.:204
Lösungen:

Aufgabe 1: Punkt 1 = 330, Punkt 2 = 840, Punkt 3 = 660, Punkt 4 = 750,

Aufgabe 2: Punkt 1 = 950, Punkt 2 = 970, Punkt 3 = 700, Punkt 4 = 540,

Aufgabe 3: Punkt 1 = 840, Punkt 2 = 490, Punkt 3 = 580, Punkt 4 = 720,

Aufgabe 4: Punkt 1 = 640, Punkt 2 = 920, Punkt 3 = 750, Punkt 4 = 940,