

Im Zahlenbereich bis max. 1000.

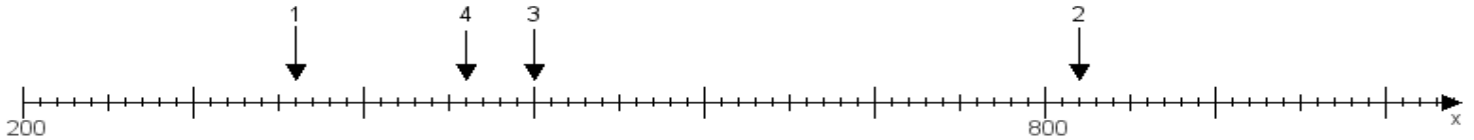
Name:

Klasse:

Datum:

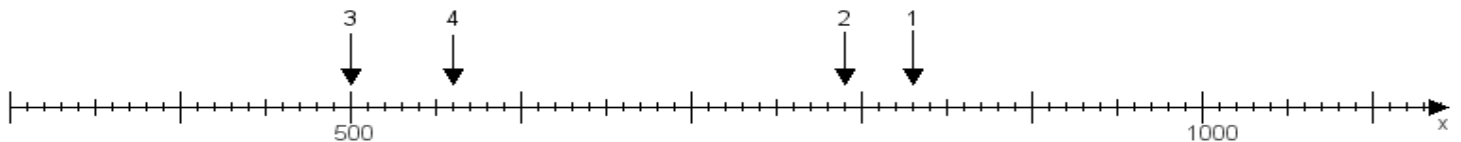
Aufgabe 1:

Ermittle die Werte von den Punkten 1 bis 4.



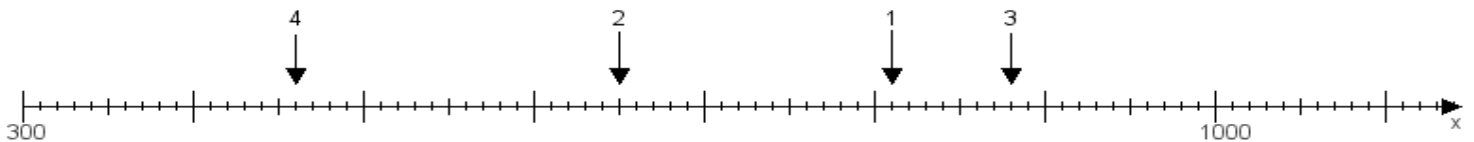
Aufgabe 2:

Ermittle die Werte von den Punkten 1 bis 4.



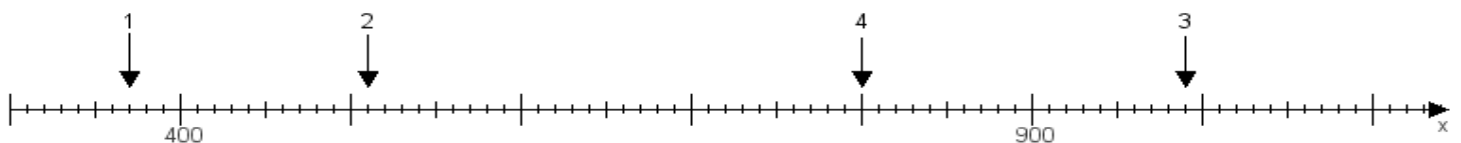
Aufgabe 3:

Ermittle die Werte von den Punkten 1 bis 4.



Aufgabe 4:

Ermittle die Werte von den Punkten 1 bis 4.



www.das-bastelteam.de -> Zahlenstrahl mit 4 Punkten. Blatt Nr.:201
Lösungen:

Aufgabe 1: Punkt 1 = 360, Punkt 2 = 820, Punkt 3 = 500, Punkt 4 = 460,

Aufgabe 2: Punkt 1 = 830, Punkt 2 = 790, Punkt 3 = 500, Punkt 4 = 560,

Aufgabe 3: Punkt 1 = 810, Punkt 2 = 650, Punkt 3 = 880, Punkt 4 = 460,

Aufgabe 4: Punkt 1 = 370, Punkt 2 = 510, Punkt 3 = 990, Punkt 4 = 800,