

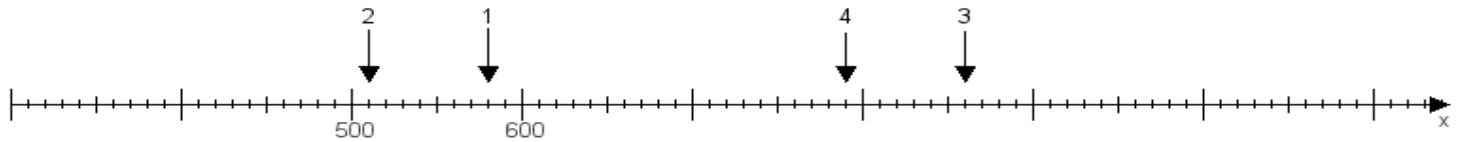
Name:

Klasse:

Datum:

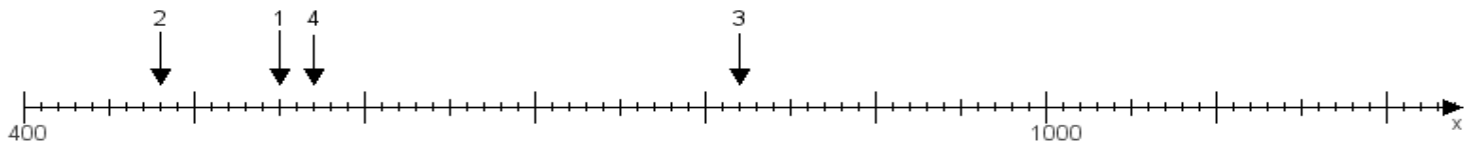
Aufgabe 1:

Ermittle die Werte von den Punkten 1 bis 4.



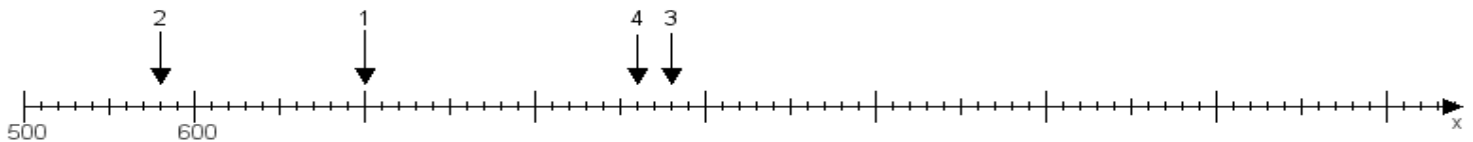
Aufgabe 2:

Ermittle die Werte von den Punkten 1 bis 4.



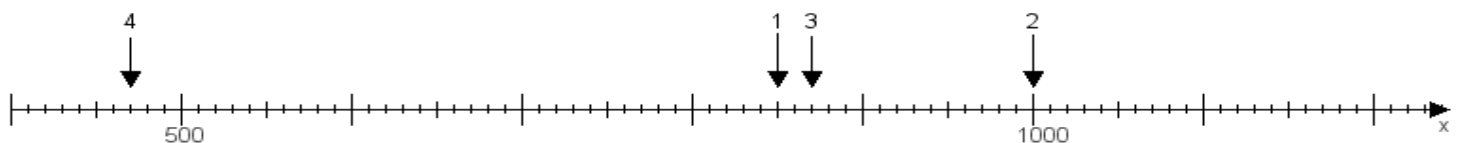
Aufgabe 3:

Ermittle die Werte von den Punkten 1 bis 4.



Aufgabe 4:

Ermittle die Werte von den Punkten 1 bis 4.



www.das-bastelteam.de -> Zahlenstrahl mit 4 Punkten. Blatt Nr.:200
Lösungen:

Aufgabe 1: Punkt 1 = 580, Punkt 2 = 510, Punkt 3 = 860, Punkt 4 = 790,

Aufgabe 2: Punkt 1 = 550, Punkt 2 = 480, Punkt 3 = 820, Punkt 4 = 570,

Aufgabe 3: Punkt 1 = 700, Punkt 2 = 580, Punkt 3 = 880, Punkt 4 = 860,

Aufgabe 4: Punkt 1 = 850, Punkt 2 = 1000, Punkt 3 = 870, Punkt 4 = 470,