

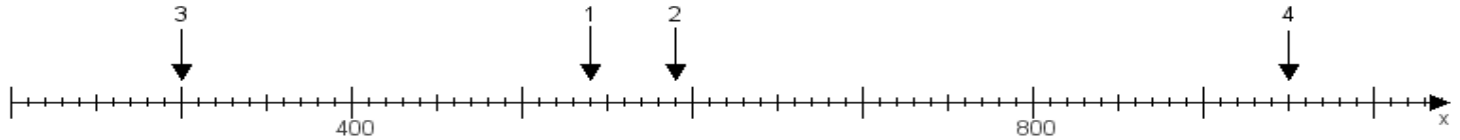
Name:

Klasse:

Datum:

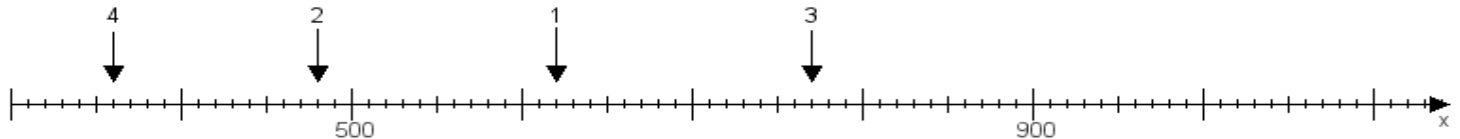
**Aufgabe 1:**

Ermittle die Werte von den Punkten 1 bis 4.



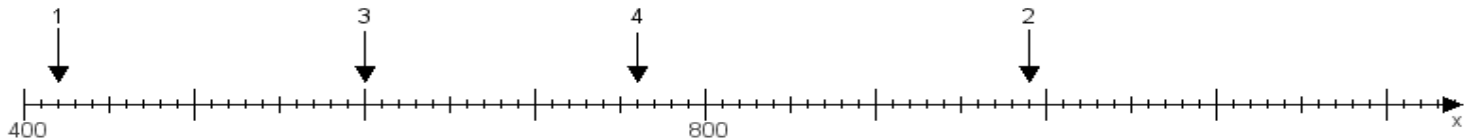
**Aufgabe 2:**

Ermittle die Werte von den Punkten 1 bis 4.



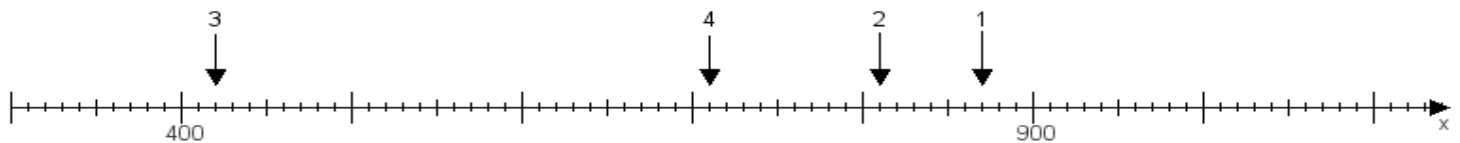
**Aufgabe 3:**

Ermittle die Werte von den Punkten 1 bis 4.



**Aufgabe 4:**

Ermittle die Werte von den Punkten 1 bis 4.



[www.das-bastelteam.de](http://www.das-bastelteam.de) -> Zahlenstrahl mit 4 Punkten. Blatt Nr.:1  
**Lösungen:**

Aufgabe 1: Punkt 1 = 540, Punkt 2 = 590, Punkt 3 = 300, Punkt 4 = 950,

Aufgabe 2: Punkt 1 = 620, Punkt 2 = 480, Punkt 3 = 770, Punkt 4 = 360,

Aufgabe 3: Punkt 1 = 420, Punkt 2 = 990, Punkt 3 = 600, Punkt 4 = 760,

Aufgabe 4: Punkt 1 = 870, Punkt 2 = 810, Punkt 3 = 420, Punkt 4 = 710,