

Im Zahlenbereich bis max. 1000.

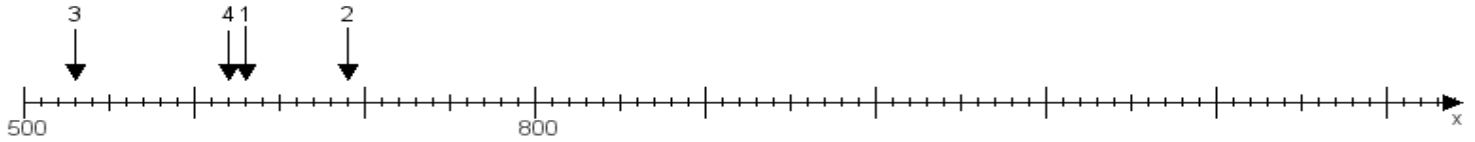
Name:

Klasse:

Datum:

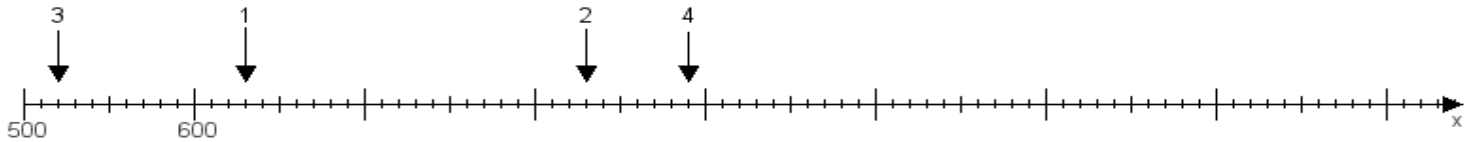
Aufgabe 1:

Ermittle die Werte von den Punkten 1 bis 4.



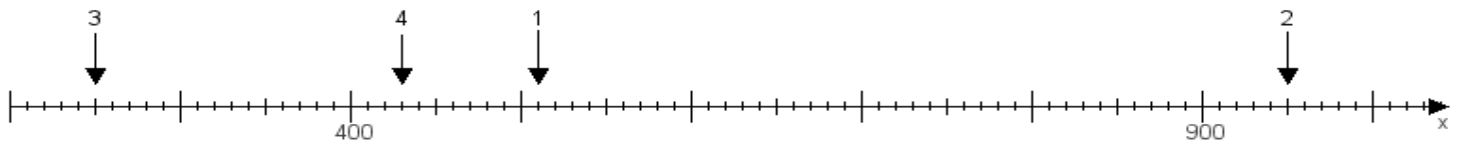
Aufgabe 2:

Ermittle die Werte von den Punkten 1 bis 4.



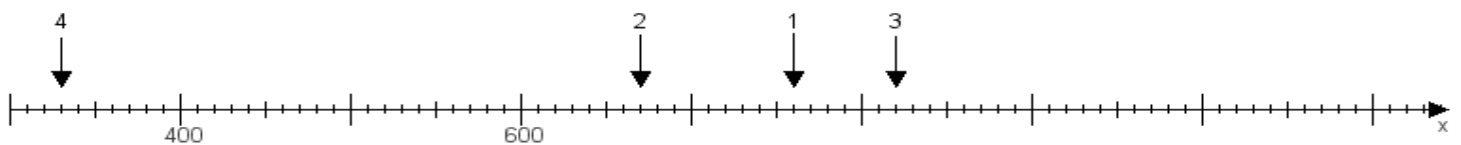
Aufgabe 3:

Ermittle die Werte von den Punkten 1 bis 4.



Aufgabe 4:

Ermittle die Werte von den Punkten 1 bis 4.



www.das-bastelteam.de -> Zahlenstrahl mit 4 Punkten. Blatt Nr.:19
Lösungen:

Aufgabe 1: Punkt 1 = 630, Punkt 2 = 690, Punkt 3 = 530, Punkt 4 = 620,

Aufgabe 2: Punkt 1 = 630, Punkt 2 = 830, Punkt 3 = 520, Punkt 4 = 890,

Aufgabe 3: Punkt 1 = 510, Punkt 2 = 950, Punkt 3 = 250, Punkt 4 = 430,

Aufgabe 4: Punkt 1 = 760, Punkt 2 = 670, Punkt 3 = 820, Punkt 4 = 330,