

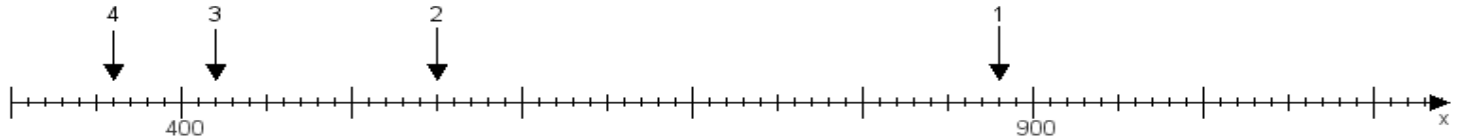
Name:

Klasse:

Datum:

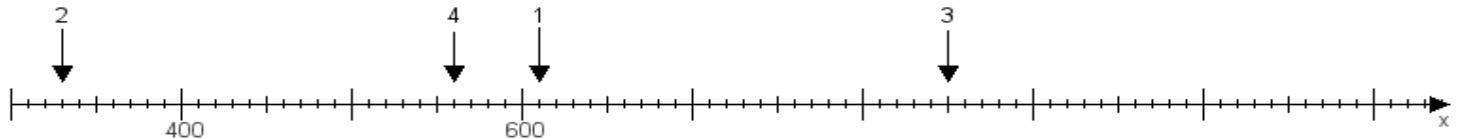
**Aufgabe 1:**

Ermittle die Werte von den Punkten 1 bis 4.



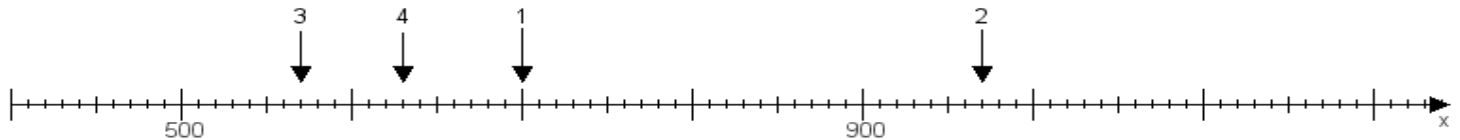
**Aufgabe 2:**

Ermittle die Werte von den Punkten 1 bis 4.



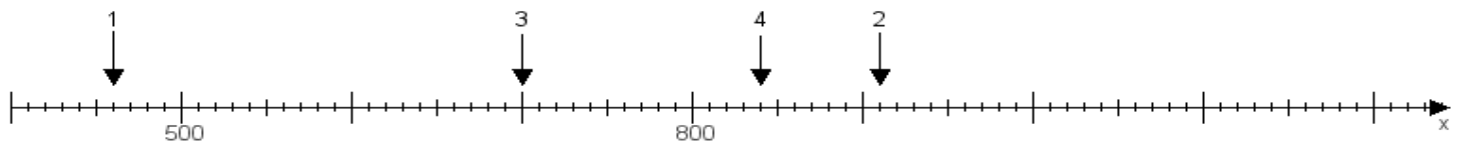
**Aufgabe 3:**

Ermittle die Werte von den Punkten 1 bis 4.



**Aufgabe 4:**

Ermittle die Werte von den Punkten 1 bis 4.



[www.das-bastelteam.de](http://www.das-bastelteam.de) -> Zahlenstrahl mit 4 Punkten. Blatt Nr.:198  
Lösungen:

Aufgabe 1: Punkt 1 = 880, Punkt 2 = 550, Punkt 3 = 420, Punkt 4 = 360,

Aufgabe 2: Punkt 1 = 610, Punkt 2 = 330, Punkt 3 = 850, Punkt 4 = 560,

Aufgabe 3: Punkt 1 = 700, Punkt 2 = 970, Punkt 3 = 570, Punkt 4 = 630,

Aufgabe 4: Punkt 1 = 460, Punkt 2 = 910, Punkt 3 = 700, Punkt 4 = 840,