

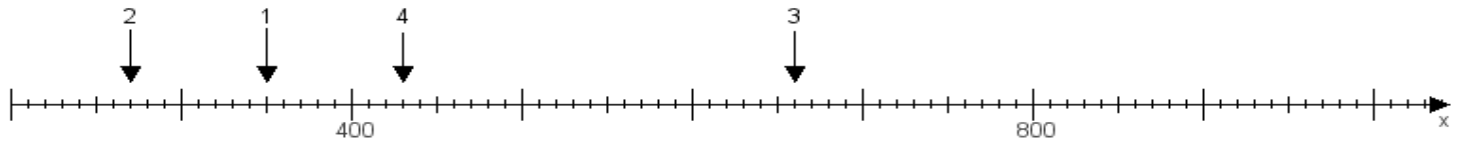
Name:

Klasse:

Datum:

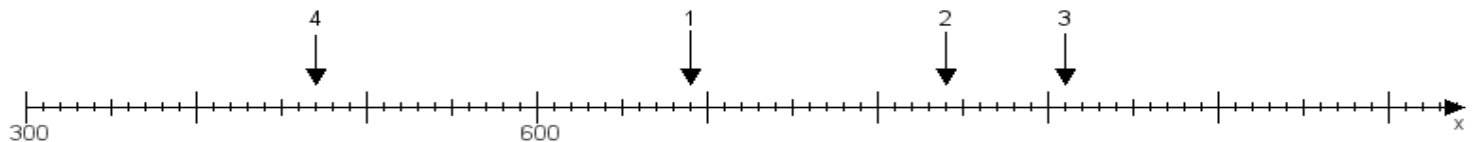
Aufgabe 1:

Ermittle die Werte von den Punkten 1 bis 4.



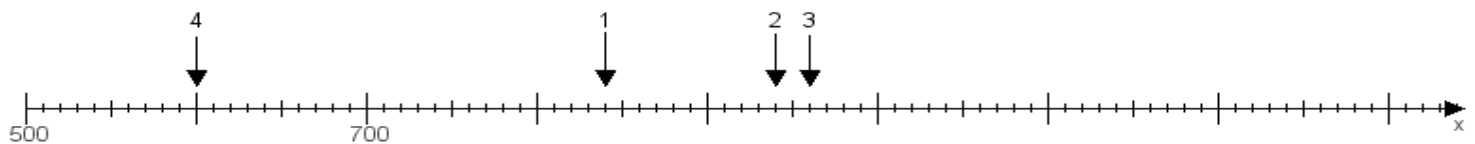
Aufgabe 2:

Ermittle die Werte von den Punkten 1 bis 4.



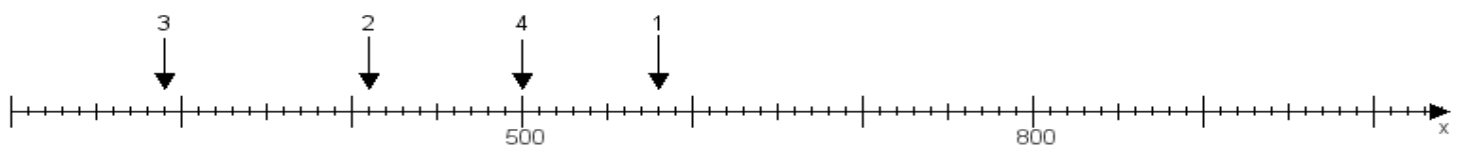
Aufgabe 3:

Ermittle die Werte von den Punkten 1 bis 4.



Aufgabe 4:

Ermittle die Werte von den Punkten 1 bis 4.



www.das-bastelteam.de -> Zahlenstrahl mit 4 Punkten. Blatt Nr.:194
Lösungen:

Aufgabe 1: Punkt 1 = 350, Punkt 2 = 270, Punkt 3 = 660, Punkt 4 = 430,

Aufgabe 2: Punkt 1 = 690, Punkt 2 = 840, Punkt 3 = 910, Punkt 4 = 470,

Aufgabe 3: Punkt 1 = 840, Punkt 2 = 940, Punkt 3 = 960, Punkt 4 = 600,

Aufgabe 4: Punkt 1 = 580, Punkt 2 = 410, Punkt 3 = 290, Punkt 4 = 500,