

Im Zahlenbereich bis max. 1000.

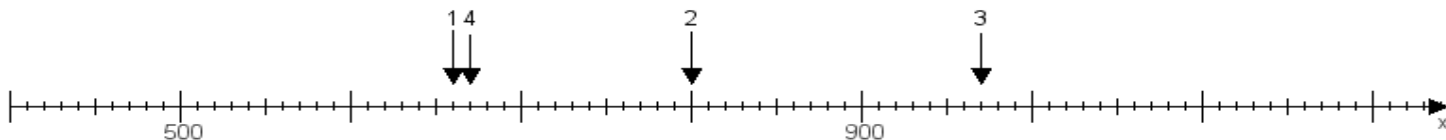
Name:

Klasse:

Datum:

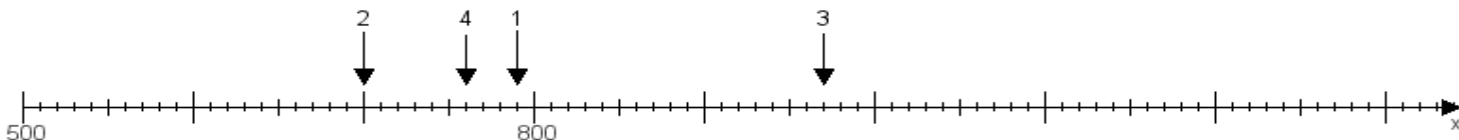
Aufgabe 1:

Ermittle die Werte von den Punkten 1 bis 4.



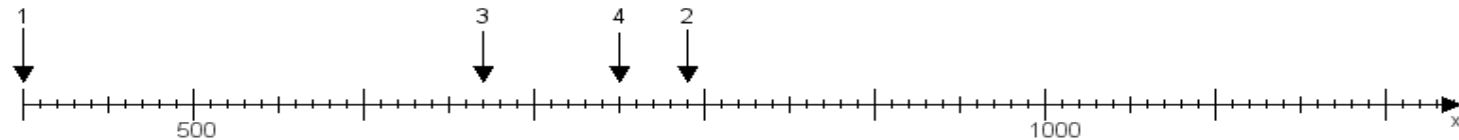
Aufgabe 2:

Ermittle die Werte von den Punkten 1 bis 4.



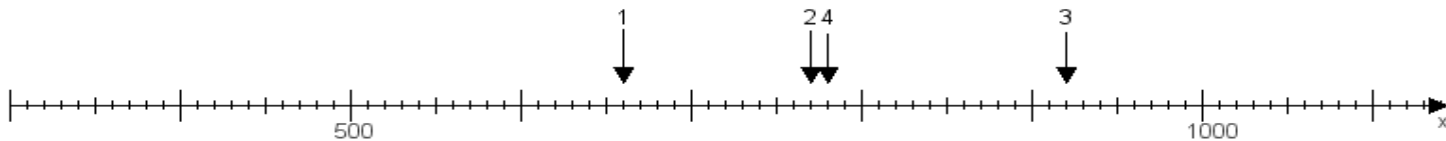
Aufgabe 3:

Ermittle die Werte von den Punkten 1 bis 4.



Aufgabe 4:

Ermittle die Werte von den Punkten 1 bis 4.



www.das-bastelteam.de -> Zahlenstrahl mit 4 Punkten. Blatt Nr.:189
Lösungen:

Aufgabe 1: Punkt 1 = 660, Punkt 2 = 800, Punkt 3 = 970, Punkt 4 = 670,

Aufgabe 2: Punkt 1 = 790, Punkt 2 = 700, Punkt 3 = 970, Punkt 4 = 760,

Aufgabe 3: Punkt 1 = 400, Punkt 2 = 790, Punkt 3 = 670, Punkt 4 = 750,

Aufgabe 4: Punkt 1 = 660, Punkt 2 = 770, Punkt 3 = 920, Punkt 4 = 780,