

Im Zahlenbereich bis max. 1000.

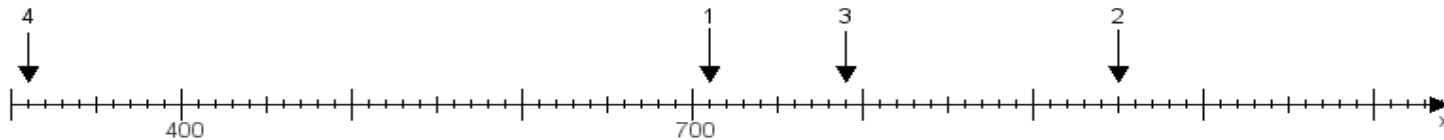
Name:

Klasse:

Datum:

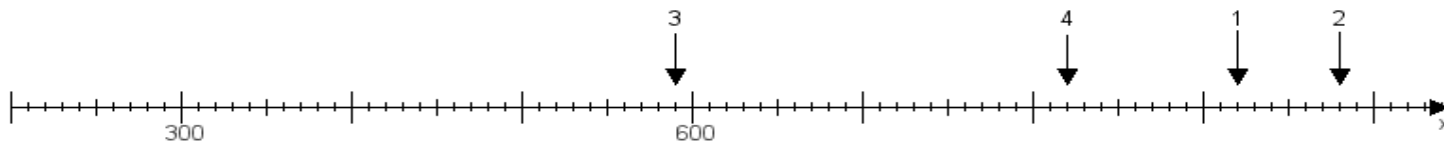
Aufgabe 1:

Ermittle die Werte von den Punkten 1 bis 4.



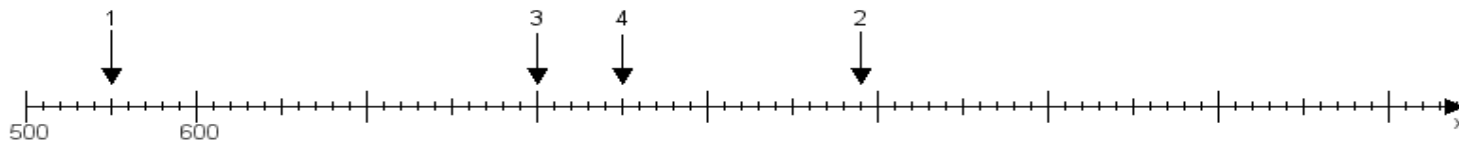
Aufgabe 2:

Ermittle die Werte von den Punkten 1 bis 4.



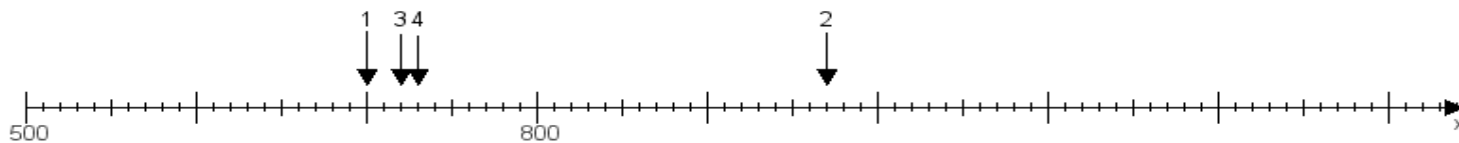
Aufgabe 3:

Ermittle die Werte von den Punkten 1 bis 4.



Aufgabe 4:

Ermittle die Werte von den Punkten 1 bis 4.



www.das-bastelteam.de -> Zahlenstrahl mit 4 Punkten. Blatt Nr.:186
Lösungen:

Aufgabe 1: Punkt 1 = 710, Punkt 2 = 950, Punkt 3 = 790, Punkt 4 = 310,

Aufgabe 2: Punkt 1 = 920, Punkt 2 = 980, Punkt 3 = 590, Punkt 4 = 820,

Aufgabe 3: Punkt 1 = 550, Punkt 2 = 990, Punkt 3 = 800, Punkt 4 = 850,

Aufgabe 4: Punkt 1 = 700, Punkt 2 = 970, Punkt 3 = 720, Punkt 4 = 730,