

Im Zahlenbereich bis max. 1000.

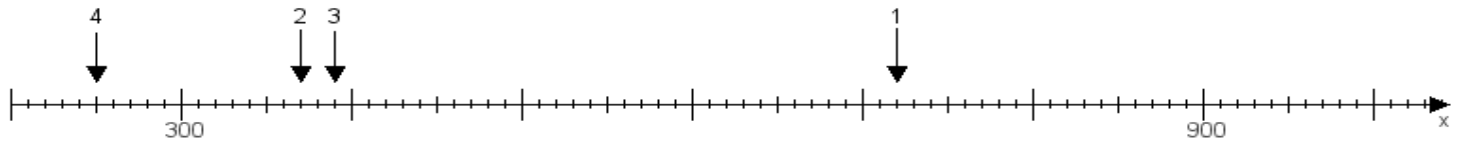
Name:

Klasse:

Datum:

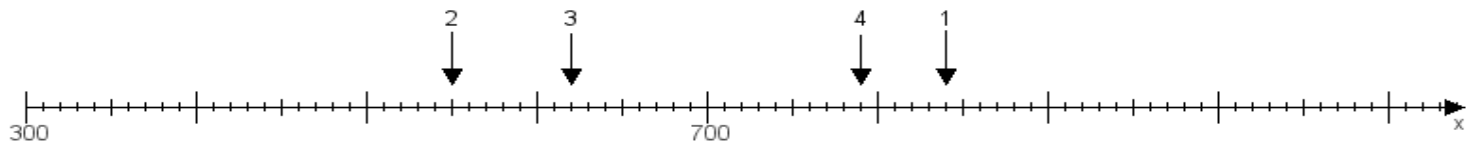
Aufgabe 1:

Ermittle die Werte von den Punkten 1 bis 4.



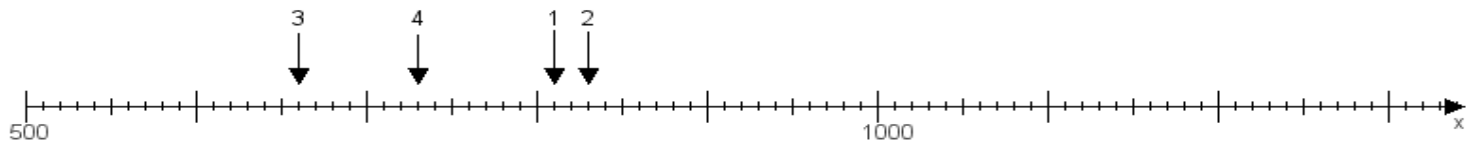
Aufgabe 2:

Ermittle die Werte von den Punkten 1 bis 4.



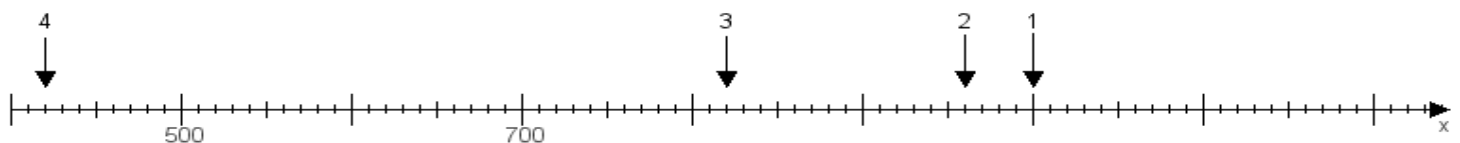
Aufgabe 3:

Ermittle die Werte von den Punkten 1 bis 4.



Aufgabe 4:

Ermittle die Werte von den Punkten 1 bis 4.



www.das-bastelteam.de -> Zahlenstrahl mit 4 Punkten. Blatt Nr.:185
Lösungen:

Aufgabe 1: Punkt 1 = 720, Punkt 2 = 370, Punkt 3 = 390, Punkt 4 = 250,

Aufgabe 2: Punkt 1 = 840, Punkt 2 = 550, Punkt 3 = 620, Punkt 4 = 790,

Aufgabe 3: Punkt 1 = 810, Punkt 2 = 830, Punkt 3 = 660, Punkt 4 = 730,

Aufgabe 4: Punkt 1 = 1000, Punkt 2 = 960, Punkt 3 = 820, Punkt 4 = 420,