

Im Zahlenbereich bis max. 1000.

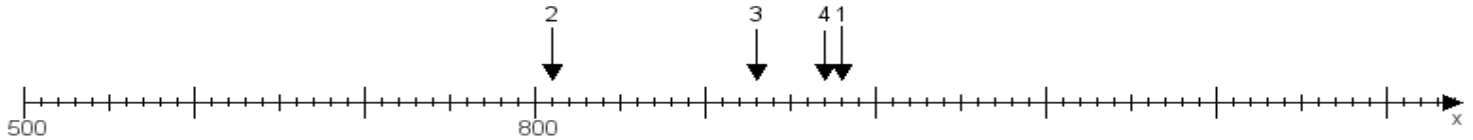
Name:

Klasse:

Datum:

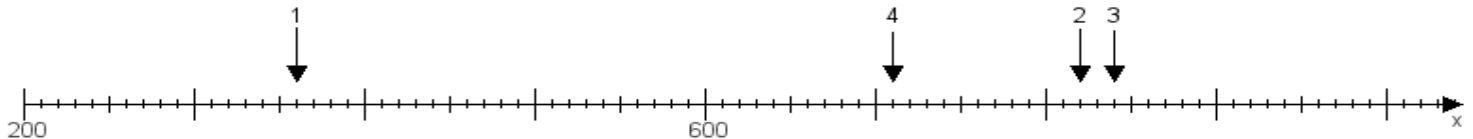
Aufgabe 1:

Ermittle die Werte von den Punkten 1 bis 4.



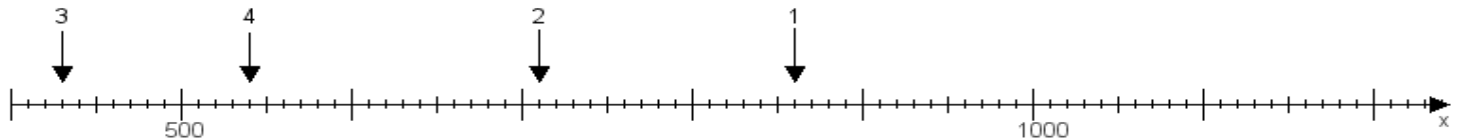
Aufgabe 2:

Ermittle die Werte von den Punkten 1 bis 4.



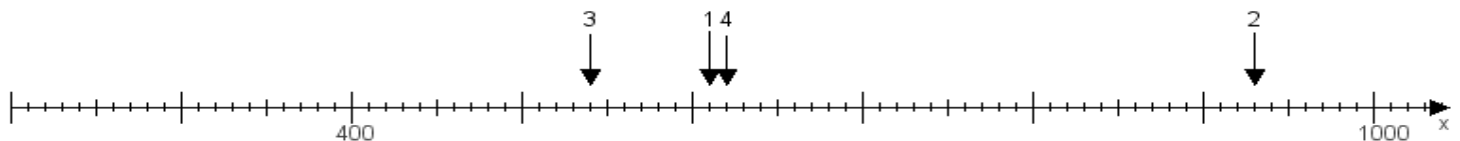
Aufgabe 3:

Ermittle die Werte von den Punkten 1 bis 4.



Aufgabe 4:

Ermittle die Werte von den Punkten 1 bis 4.



www.das-bastelteam.de -> Zahlenstrahl mit 4 Punkten. Blatt Nr.:182
Lösungen:

Aufgabe 1: Punkt 1 = 980, Punkt 2 = 810, Punkt 3 = 930, Punkt 4 = 970,

Aufgabe 2: Punkt 1 = 360, Punkt 2 = 820, Punkt 3 = 840, Punkt 4 = 710,

Aufgabe 3: Punkt 1 = 860, Punkt 2 = 710, Punkt 3 = 430, Punkt 4 = 540,

Aufgabe 4: Punkt 1 = 610, Punkt 2 = 930, Punkt 3 = 540, Punkt 4 = 620,