

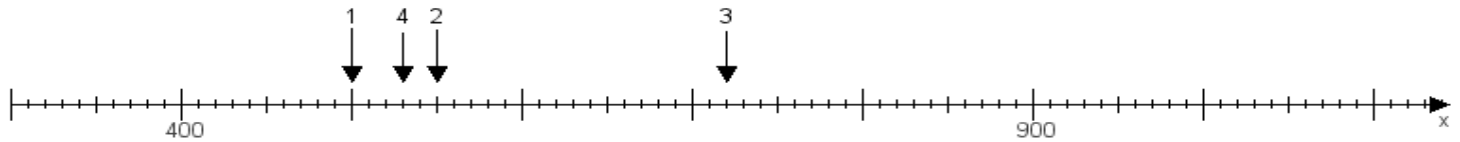
Name:

Klasse:

Datum:

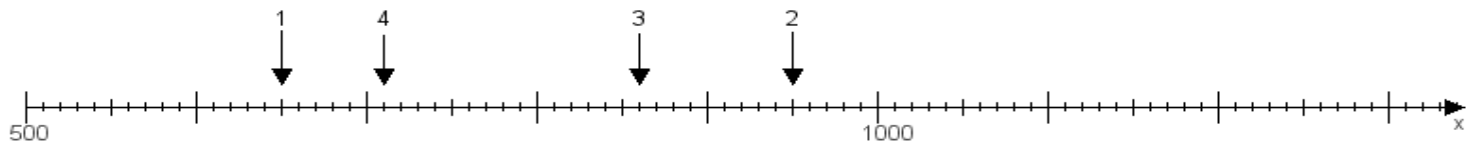
Aufgabe 1:

Ermittle die Werte von den Punkten 1 bis 4.



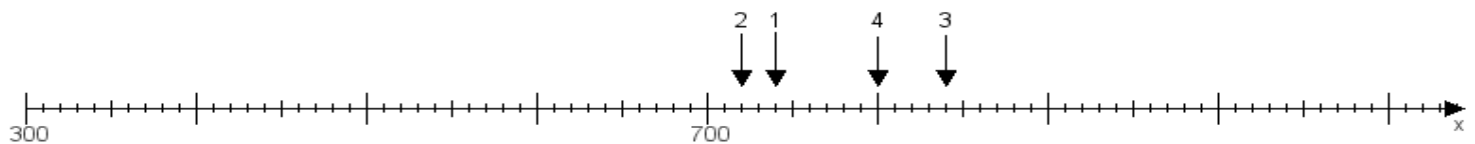
Aufgabe 2:

Ermittle die Werte von den Punkten 1 bis 4.



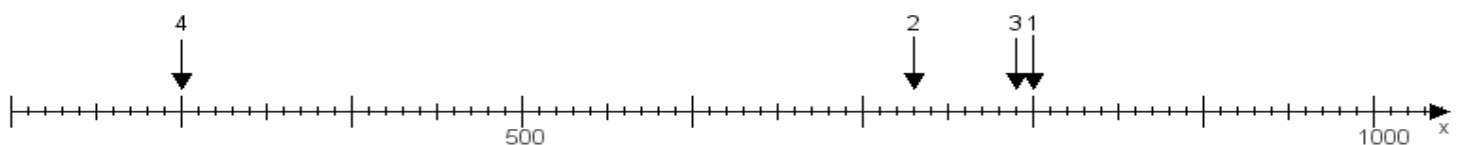
Aufgabe 3:

Ermittle die Werte von den Punkten 1 bis 4.



Aufgabe 4:

Ermittle die Werte von den Punkten 1 bis 4.



www.das-bastelteam.de -> Zahlenstrahl mit 4 Punkten. Blatt Nr.:180
Lösungen:

Aufgabe 1: Punkt 1 = 500, Punkt 2 = 550, Punkt 3 = 720, Punkt 4 = 530,

Aufgabe 2: Punkt 1 = 650, Punkt 2 = 950, Punkt 3 = 860, Punkt 4 = 710,

Aufgabe 3: Punkt 1 = 740, Punkt 2 = 720, Punkt 3 = 840, Punkt 4 = 800,

Aufgabe 4: Punkt 1 = 800, Punkt 2 = 730, Punkt 3 = 790, Punkt 4 = 300,