

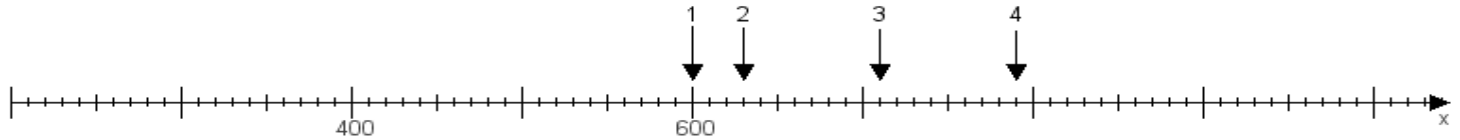
Name:

Klasse:

Datum:

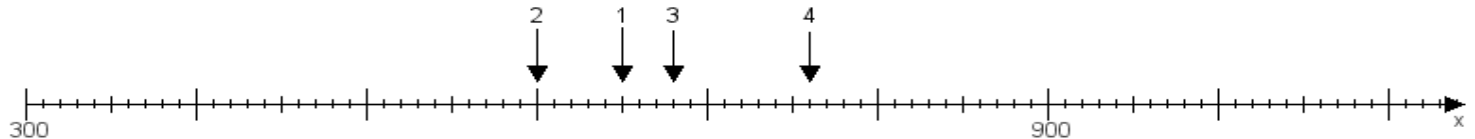
Aufgabe 1:

Ermittle die Werte von den Punkten 1 bis 4.



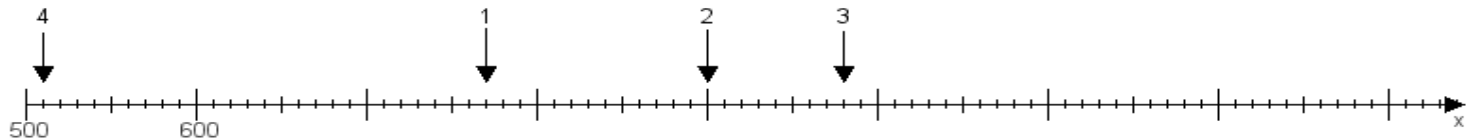
Aufgabe 2:

Ermittle die Werte von den Punkten 1 bis 4.



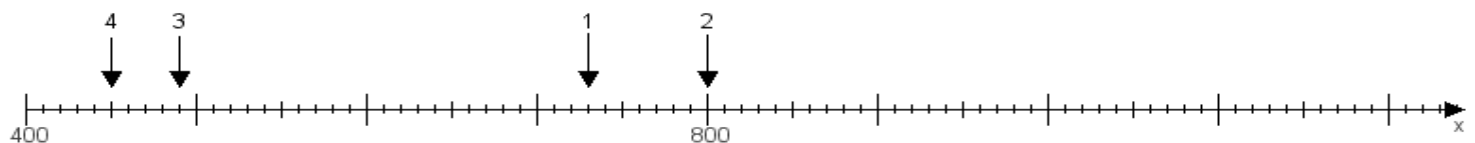
Aufgabe 3:

Ermittle die Werte von den Punkten 1 bis 4.



Aufgabe 4:

Ermittle die Werte von den Punkten 1 bis 4.



www.das-bastelteam.de -> Zahlenstrahl mit 4 Punkten. Blatt Nr.:178
Lösungen:

Aufgabe 1: Punkt 1 = 600, Punkt 2 = 630, Punkt 3 = 710, Punkt 4 = 790,

Aufgabe 2: Punkt 1 = 650, Punkt 2 = 600, Punkt 3 = 680, Punkt 4 = 760,

Aufgabe 3: Punkt 1 = 770, Punkt 2 = 900, Punkt 3 = 980, Punkt 4 = 510,

Aufgabe 4: Punkt 1 = 730, Punkt 2 = 800, Punkt 3 = 490, Punkt 4 = 450,