

Im Zahlenbereich bis max. 1000.

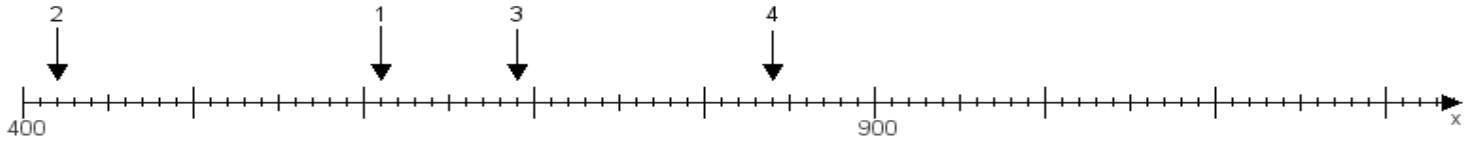
Name:

Klasse:

Datum:

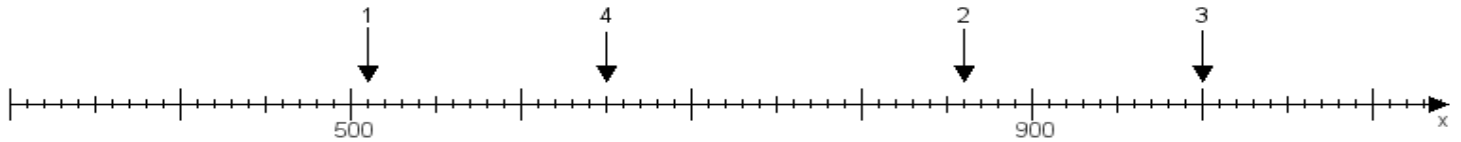
Aufgabe 1:

Ermittle die Werte von den Punkten 1 bis 4.



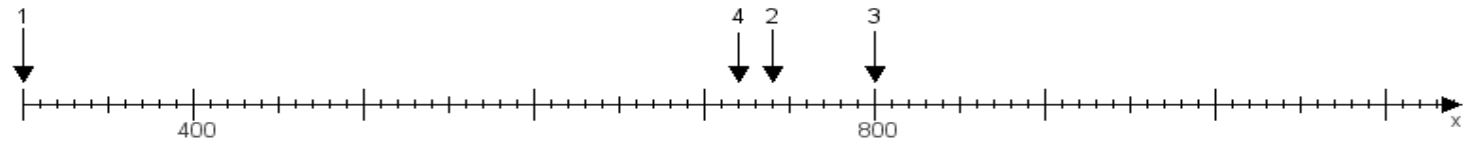
Aufgabe 2:

Ermittle die Werte von den Punkten 1 bis 4.



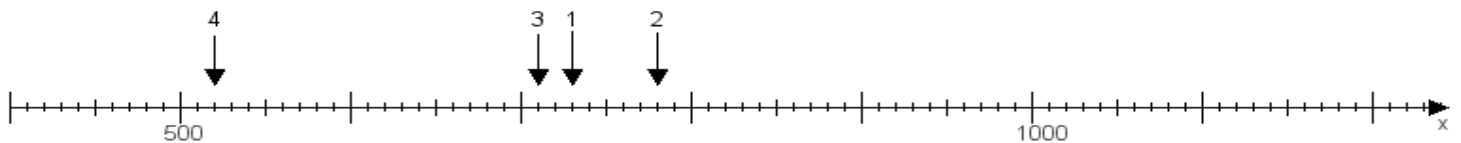
Aufgabe 3:

Ermittle die Werte von den Punkten 1 bis 4.



Aufgabe 4:

Ermittle die Werte von den Punkten 1 bis 4.



www.das-bastelteam.de -> Zahlenstrahl mit 4 Punkten. Blatt Nr.:174
Lösungen:

Aufgabe 1: Punkt 1 = 610, Punkt 2 = 420, Punkt 3 = 690, Punkt 4 = 840,

Aufgabe 2: Punkt 1 = 510, Punkt 2 = 860, Punkt 3 = 1000, Punkt 4 = 650,

Aufgabe 3: Punkt 1 = 300, Punkt 2 = 740, Punkt 3 = 800, Punkt 4 = 720,

Aufgabe 4: Punkt 1 = 730, Punkt 2 = 780, Punkt 3 = 710, Punkt 4 = 520,