

Im Zahlenbereich bis max. 1000.

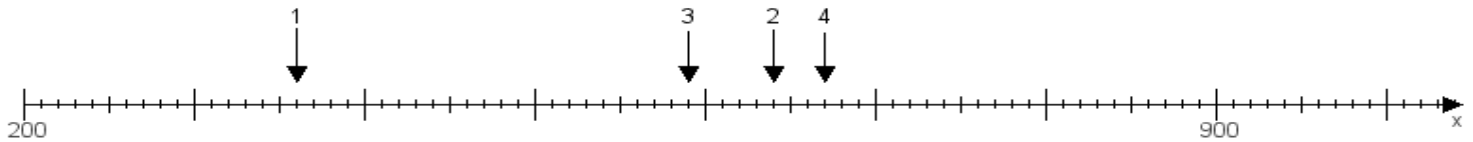
Name:

Klasse:

Datum:

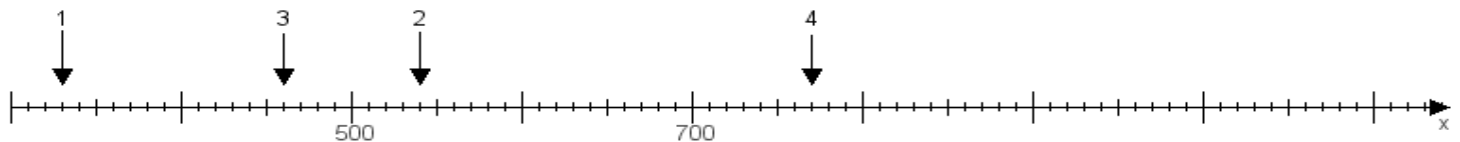
Aufgabe 1:

Ermittle die Werte von den Punkten 1 bis 4.



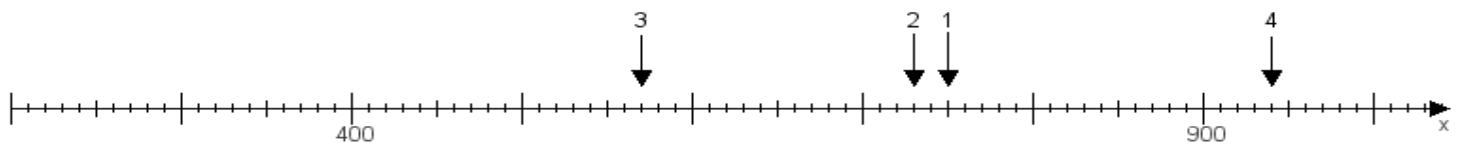
Aufgabe 2:

Ermittle die Werte von den Punkten 1 bis 4.



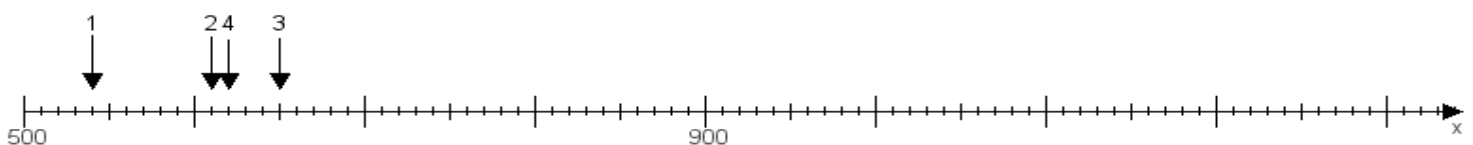
Aufgabe 3:

Ermittle die Werte von den Punkten 1 bis 4.



Aufgabe 4:

Ermittle die Werte von den Punkten 1 bis 4.



www.das-bastelteam.de -> Zahlenstrahl mit 4 Punkten. Blatt Nr.:173
Lösungen:

Aufgabe 1: Punkt 1 = 360, Punkt 2 = 640, Punkt 3 = 590, Punkt 4 = 670,

Aufgabe 2: Punkt 1 = 330, Punkt 2 = 540, Punkt 3 = 460, Punkt 4 = 770,

Aufgabe 3: Punkt 1 = 750, Punkt 2 = 730, Punkt 3 = 570, Punkt 4 = 940,

Aufgabe 4: Punkt 1 = 540, Punkt 2 = 610, Punkt 3 = 650, Punkt 4 = 620,