

Im Zahlenbereich bis max. 1000.

Name:

Klasse:

Datum:

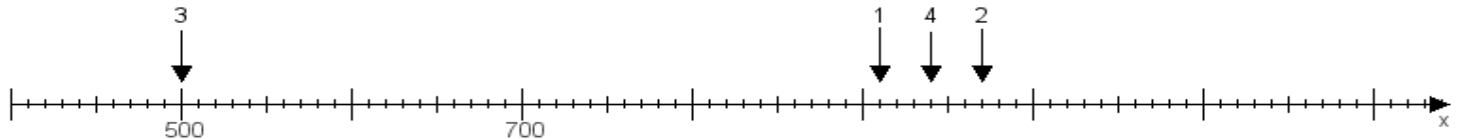
Aufgabe 1:

Ermittle die Werte von den Punkten 1 bis 4.



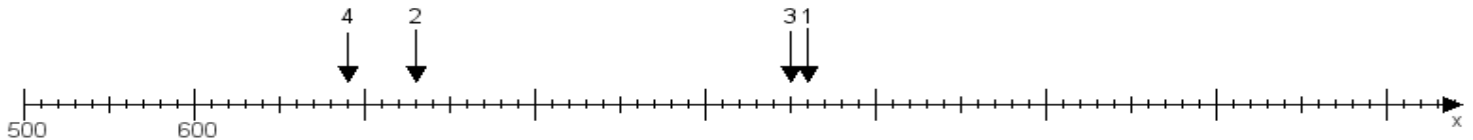
Aufgabe 2:

Ermittle die Werte von den Punkten 1 bis 4.



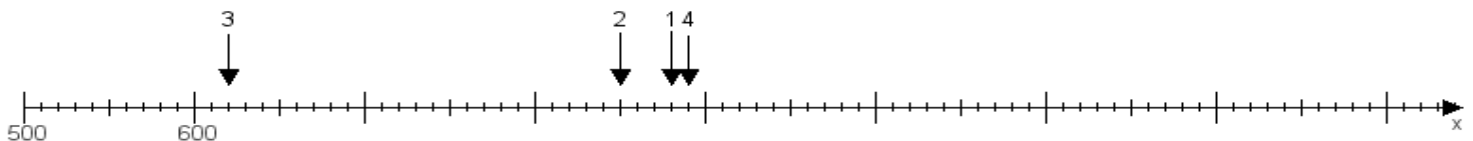
Aufgabe 3:

Ermittle die Werte von den Punkten 1 bis 4.



Aufgabe 4:

Ermittle die Werte von den Punkten 1 bis 4.



www.das-bastelteam.de -> Zahlenstrahl mit 4 Punkten. Blatt Nr.:169
Lösungen:

Aufgabe 1: Punkt 1 = 610, Punkt 2 = 540, Punkt 3 = 820, Punkt 4 = 830,

Aufgabe 2: Punkt 1 = 910, Punkt 2 = 970, Punkt 3 = 500, Punkt 4 = 940,

Aufgabe 3: Punkt 1 = 960, Punkt 2 = 730, Punkt 3 = 950, Punkt 4 = 690,

Aufgabe 4: Punkt 1 = 880, Punkt 2 = 850, Punkt 3 = 620, Punkt 4 = 890,