

Im Zahlenbereich bis max. 1000.

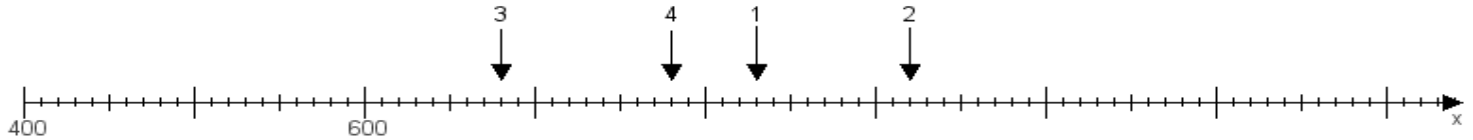
Name:

Klasse:

Datum:

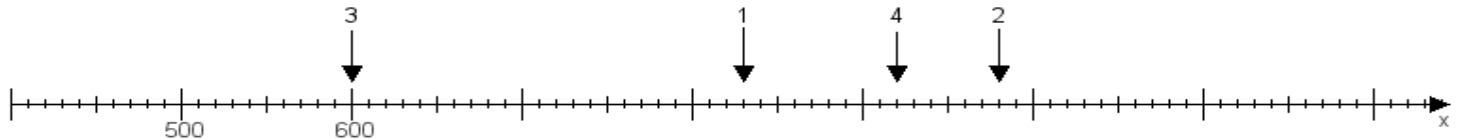
Aufgabe 1:

Ermittle die Werte von den Punkten 1 bis 4.



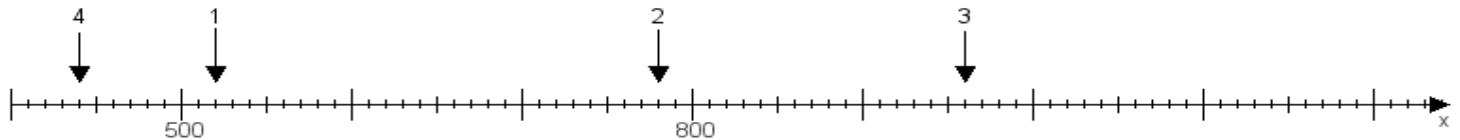
Aufgabe 2:

Ermittle die Werte von den Punkten 1 bis 4.



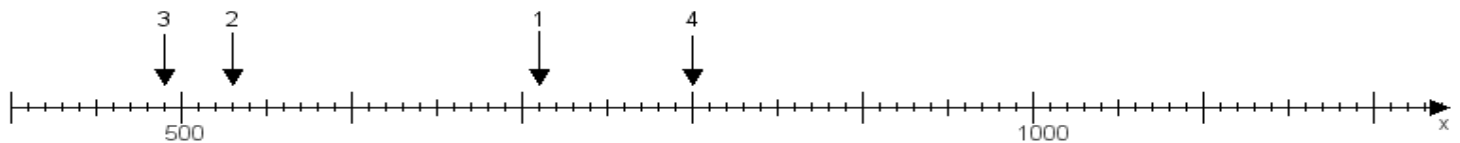
Aufgabe 3:

Ermittle die Werte von den Punkten 1 bis 4.



Aufgabe 4:

Ermittle die Werte von den Punkten 1 bis 4.



www.das-bastelteam.de -> Zahlenstrahl mit 4 Punkten. Blatt Nr.:165
Lösungen:

Aufgabe 1: Punkt 1 = 830, Punkt 2 = 920, Punkt 3 = 680, Punkt 4 = 780,

Aufgabe 2: Punkt 1 = 830, Punkt 2 = 980, Punkt 3 = 600, Punkt 4 = 920,

Aufgabe 3: Punkt 1 = 520, Punkt 2 = 780, Punkt 3 = 960, Punkt 4 = 440,

Aufgabe 4: Punkt 1 = 710, Punkt 2 = 530, Punkt 3 = 490, Punkt 4 = 800,